

المرحلة : الأولى
المادة : الحاسبات
التاريخ : ٢٠٢٣/٢٤
الوقت : ساعتين



جامعة البصرة
كلية الادارة والاقتصاد

قسم العلوم المالية
والمصرفية
الدراسات / المسائية

(الدور الثاني)

أسئلة الامتحان النهائي للعام الدراسي ٢٠٢٣/٢٤

ملاحظة: الأجابة على خمسة أسئلة فقط - لكل سؤال (١٠) درجة

س١ / أجب ب صح أو خطأ / (لكل فقرة (٢) درجة)

- ١- العملاء وهي الأجهزة ذات المواصفات العادية والتي تتطلب الخدمات والبيانات من أجهزة الخادم .
- ٢- الخوادم وهي الأجهزة التي وظيفتها الأساسية هي تخزين المعلومات وتقديمها إلى المستخدمين الذين يطلبون هذه المعلومات .
- ٣- الإنترنت على الأغلب لا يحفظ حقوق الملكية للناشر حيث أن البعض يقومون بسرقة بعض الكتب ونسبها إليهم .
- ٤- من أبرز إيجابيات الإنترنت هو عدم وجود رقابة فقد نرى مواضيع كثيرة تتضمن مواضيع مختلفة على العنف والعنصرية .
- ٥- خط الهاتف وهو الحصول على خدمة الولوج إلى الإنترنت من خلال إحدى شركات تزويد خدمة الإنترنت .

س٢ / أملئ الفراغات التالية بما يناسبها من العبارات / (لكل فقرة (٢) درجة)

١. الجهاز الذي يتم تثبيته على جهاز الحاسوب لتهيئة الاتصال بالإنترنت يسمى
٢. هي أجهزة وظيفتها الأساسية تخزين المعلومات وتقديمها إلى المستخدمين الذين يطلبون هذه المعلومات.
٣. يمكن تصنيف أنظمة التشغيل وفق معايير مختلفة، حيث يمكن تصنيف أنظمة التشغيل إلى
٤. هي أجهزة حاسوب عادية (لوحة أم ومعالج وذاكرة وقرص صلب) لكنها تكون مجهزة بمواصفات خاصة تجعلها مناسبة للمهمة التي تقوم بها.
٥. هي عبارة عن أجهزة تستخدم لربط حاسبات الشبكة ببعضها البعض.

س٣ / أختَر الأجابة الصحيحة من بين الأقواس / (لكل فقرة (٢) درجة)


- ١- يمثل مجموعة قواعد واجراءات يتبعها الحاسوب ليتمكن من الاتصال بأجهزة الحاسوب الاخرى في الشبكة .
(الحاسوب - البروتوكول - الانترنت - جميع ما ذكر)
- ٢- تتألف المكونات المادية في الإنترنت من أجهزة الحاسوب الملموسة ومنها .
(الخوادم - المتصفحات - شبكة الحاسوب - جميع ما ذكر)


- ٣- يمثل شبكة عالمية من الروابط بين الحواسيب تسمح للناس بالاتصال والتواصل مع بعضهم البعض (الانترنت - المتصفح - الحاسوب الرئيسي - جميع ما ذكر)
- ٤- تحتوي على برامج التصفح (المستعرض) للتمكن من الاتصال والإبحار في شبكة الإنترنت والاستفادة من خدماتها.
(الشبكة - العملاء - خطوط الاتصال - جميع ما ذكر)
- ٥- هناك مجموعة من الأجهزة والأدوات اللازم توفرها ليتمكن المستخدم من الاتصال بشبكة الإنترنت وهي .
(الطابعة - بطاقة الشبكة - المعالج - جميع ما ذكر)

س٤ / تقدم شبكات الحاسوب مجموعة كبيرة ومتنوعة من الأمكانيات والفوائد: وضحا بالتفصيل.

س٥ / تتمثل المكونات البرمجية للإنترنت بمجموعة من البرامج والتطبيقات على أجهزة الحاسوب وضح ذلك .

س٦ / وضح أنواع أو تصنيفات شبكات الحاسوب .


أ.د. شروق خلف
رئيس القسم

مع تمنياتي لكم بالنجاح

م.م أسراء خيرى عبد
مدرس المادة

المرحلة : الاولى
المادة : ادارة الاعمال
الزمن : ساعتين
التاريخ : 2024 / 8 / 7



جامعة البصرة
كلية الادارة والاقتصاد
قسم العلوم المالية والمصرفية
الدراسات المسائية

الامتحان النهائي الكورس الثاني / الدور (البري)

ملاحظة/ الاحابة عن خمسة اسئلة فقط (توزع الدرجات بالتساوي)

س1: اجب عما يأتي:

- أ. بصفتك احد المتخصصين في ادارة الاعمال قدم ورقة تستعرض فيها النظريات التقليدية في القيادة من خلال شرحها بالتفصيل؟
ب. ماذا يقصد بالقيادة التحويلية وماهي خصائصها؟

س2: اجب عما يأتي:

أ : عدد فقط ما يلي.

1. مؤشرات ضعف النظام الرقابي

2. خصائص الأهداف

ب: يمتلك القادة مجموعة من الاساليب القيادية استعرض هذه الاساليب بالتفصيل؟

س3: استخدم المقارنة لتوضيح اهم الفروقات بين القائد والمدير؟

س4 : وضح الاتي :

أ: ماذا نقصد بالنظام الرقابي ؟ وما الهدف الأساسي له؟ وماهي مكوناته ؟

ب: ماذا نقصد بمصطلح الإدارة بالأهداف؟ وما هي مراحلها؟ وضح ذلك معرزا اجابتك بالرسم ؟

س5: اجب عما يأتي :

أ . عدد فقط.

1. خصائص النظام الرقابي الفعال . 2. مداخل فاعلية المنظمة.

ب: وضح من خلال الرسم فقط مستويات الاهداف والتخطيط في المنظمة؟

س6 : اجب عما يأتي :


أ: عدد فقط اهم المجالات التي توضع لها اهداف وفق ما اشار اليها الباحث Drucker؟


ب: وضح من خلال الرسم فقط :

1.مقارنة بين التصميم العضوي والميكانيكي

2. مراحل العملية التخطيطية

... مع خالص تمنياتي لكم بالمجاح ...


د. شروق خلف
رئيس القسم


م.م. دعاء شهيد حبيب
مدرس المادة

المادة : الاقتصاد
المرحلة : الاولى
الوقت : ساعتان
التاريخ : 2024/11/18



جامعة البصرة
كلية الإدارة والاقتصاد
قسم العلوم المالية والمصرفية
الدراسات المسائية

اسئلة الامتحان النهائي / الكورس الثاني / الدوام الثاني / للعام الدراسي 2024/2023

ملاحظة: الإجابة بالقلم الجاف الأسود أو الأزرق حصراً
الإجابة عن أربعة أسئلة فقط

س1/ أ- لديك دالة الاستهلاك التالية ($C = 20 + 0.75Y$)

والمطلوب :

1- جد الاستهلاك عندما يكون الدخل يساوي (80 \$ و 100 \$ و 170 \$).

2- جد ال APC وعلق على النتائج.

س1/ ب- بافتراض ان مستوى الدخل المتاح هو 60 مليون دينار وان الاستهلاك C هو 70 مليون دينار ,

والادخار هو سالب 10 مليون دينار

والمطلوب : حساب APC , APS

واثبت ان $APS + APC = 1$

(12 درجة)

س2/ أ- توفرت لديك البيانات التالية:

2750	الاجور والرواتب
2000	الايجارات للمباني
1750	الربيع
1500	الفائدة
2500	الارباح

المطلوب : حساب الدخل القومي.

س2/ ب - وضح العلاقة بين الناتج المحلي والدخل القومي.

(13 درجة)

س3/ أ- توفرت لديك البيانات التالية:

$$C = 250 + 0.75Y \quad , \quad I = (750) \quad , \quad G = 2750 \quad , \quad X = 2000 \quad , \quad M = 2250$$

المطلوب: حساب المستوى التوازني للدخل.

س3/ ب- اكتب معادلة دالة الادخار مع الرسم

(13 درجة)

س4/ عائلة تستهلك (\$990) عندما كان دخلها (\$1120) واصبحت تستهلك (\$1020) عندما ارتفع دخلها الى (\$1170) تم ارتفاع استهلاكها الى (\$1050) على اثر ارتفاع دخلها الى (\$1220)

المطلوب: حساب APC , APS, MPS , MPS

(13 درجة)

س5/ اختر الاجابة الصحيحة لكل مما ياتي :

- 1- يمثل خط دالة C بأنه
(أ) مستقيم . (ب) غير مستقيم (ج) متقطع .
- 2- يمثل خط دالة S اسفل نقطة الصفر (0) دلالة على
(أ) انحدار دالة الادخار. (ب) الجزء السالب من الدالة. (ج) تقاطعها مع نقطة الصفر.
- 3- ان ال B في دالة ال C تمثل
(أ) APC (ب) MPC (ج) MPS
- 4- ان قيمة APC تساوي 1 عنما يكون
(أ) $Y < C$ (ب) $C = Y$ (ج) $C < Y$
- 5- تتراوح قيمة MPS بين
(أ) الواحد والصفر (ب) < 1 (ج) الصفر والواحد
- 6- تمثل ال α في دالة C
(أ) الادخار المستقل عن الدخل. (ب) الاستهلاك المستقل عن الدخل.
(ج) الجزء السالب من دالة الادخار
- 7- تعبر ال (1-B) عن
(أ) MPS (ب) MPC (ج) $\Delta C / \Delta Y$
- 8- ان GDP هو عبارة عن
(أ) APC (ب) P.Q (ج) MPS
- 9- ان الانتاج هو عملية:
(أ) ضرب الكمية في السعر (ب) خلق منفعة او زيادتها (ج) قسمة السعر على الكمية
- 10- ان طريقة حساب الدخل القومي بطريقة القيمة المضافة تعتمد على مفهوم الدخل من زاوية:
(أ) العوائد. (ب) الانتاج. (ج) القيمة النقدية.

م.د. شروق خلف لطيف
رئيس القسم

م.د. ازهار عبد اللطيف
مدرس المادة

ملاحظة الاجابة عن اربعة اسئلة فقط لكل سؤال (12.5) درجة

س 1 / اجب بكلمة صح او خطأ مع تصحيح الخطأ لكل مما يأتي:

1. ان القيمة الوسيطة لاسعار النفط الخام هي (800) اذا علمت ان اسعار النفط الخام خلال (3) سنوات الاخيرة (460، 800، 650، 300).
2. يعتبر المدى من مقاييس النزعة المركزية ولا يمكن حسابه في حالة جداول التوزيع التكراري.
3. اذا كانت لدينا البيانات التالية (2، 5، 9) فان قيمة الانحراف المعياري هي (3.51).
4. اذا كانت لدينا البيانات التالية

x_i	1	2	7	3
y_i	8	1	6	5

فان نتيجة الصيغة $\sum_{i=1}^4 x_i y_i + \sum_{i=1}^3 x_i^2$ تساوي (115).

س 2 / احسب قيمة الوسط الحسابي للبيانات التالية التي تمثل انتاج معمل الادوية في سامراء من الادوية بالطن وعدد المكانن العاملة ؟

فئات الإنتاج (طن)	1-5	4-8	7-11	10-14	13-17
عدد المكانن العاملة	4	5	6	3	2

س 3 / من بيانات جدول التوزيع التكراري التي تمثل عدد ساعات عمل عدد من الطابعات في احدى شركات الطباعة الاعلانية:

ساعات عمل الطابعات	2-4	5-7	8-10	11-13	14-16
عدد الطابعات	2	9	7	4	3

احسب MO لساعات عمل الطابعات.

س 4 / في احدى الدراسات المالية تم تسجيل النتائج التالية


$$\sum_{i=1}^{10} XY = 40070; \sum_{i=1}^{10} X^2 = 40055; \sum_{i=1}^{10} Y^2 = 40464; \sum_{i=1}^{10} X = 613; \sum_{i=1}^{10} Y = 620$$


المطلوب // قدر معادلة نموذج الانحدار البسيط مع التفسير .

س5 // البيانات التالية تمثل اعداد النخيل (X) وكمية الانتاج (Y) في عدد من مناطق محافظة البصرة المتحققة، حدد طبيعة العلاقة بين المتغيرين مع تفسير ؟

المناطق	1	2	3	4	5	6
كمية الانتاج/طن Y	82	100	40	75	50	20
اعداد النخيل X	100	200	25	100	30	10

تمنياتنا لكم بالنجاح والتوفيق


د.م.د. شروف خلف لطيف
رئيس القسم


م. احمد هشام محمد
مدرس المادة

المادة : مبادئ المحاسبة
المرحلة : الاولى
الوقت : ساعتان
التاريخ : 2024 / 2023



جامعة البصرة
كلية الإدارة والاقتصاد
قسم العلوم المالية والمصرفية
الدراسات المسائية الدور الثالث

اسئلة الامتحانات النهائية للكورس الثاني / الدور (الربيع) للعام الدراسي 2023 - 2024

ملاحظة: الاجابة عن اربعة اسئلة فقط ((توزع الدرجات بالتساوي)) .

س1/ اجب عن الاتي :

أ- ماذا يقصد بالكمبيالة؟ وما الفرق بينها وبين الشيك وضح ذلك بالتفصيل؟
ب- عرف ميزان المراجعة , وماهي اهمية اعداده في المنشآت ؟ .

س2/ اجب عن الاتي :

1- 8/5 اشترى التاجر محمد بضاعة بمبلغ 12,000,000 دينار بالأجل من التاجر سعيد وبتاريخ 8/7 تبين ان هناك بضاعة تالفة بمبلغ 3,000,000 دينار تم الاتفاق على ارجاعها ,

م// تسجيل قيود اليومية في دفاتر المشتري والبائع .

2- 2021/4/5 استلم التاجر زيد كمبيالة من شركة النور بمبلغ 9,000,000 دينار تستحق الدفع بتاريخ 2021/7/1 حيث قام التاجر بتاريخ 2021 /5/1 بخخص الكمبيالة لدى مصرف الرافدين مقابل عمولة تحصيل 25000 دينار ومعدل خصم 2% واستلم الصافي نقدا .

م// تسجيل قيود اليومية في سجل التاجر زيد .

3- 2022/2/6 اشترى التاجر اسعد بضاعة من التاجر حسن بمبلغ 4,000,000 دينار بشيك وقام التاجر حسن بدفع مصاريف نقل البضاعة والبالغة 50,000 دينار نقدا .

م// تسجيل قيود اليومية في دفاتر التاجر اسعد والتاجر حسن .

4- تمنح شركة الرافدين التجارية خصم كمية على المبيعات وفق النسب التالية

300,000 - 800,000 %3 , 800,000 - 1,500,000 %4 ما زاد عن ذلك %5 .

بتاريخ 2019/3/7 باعت الشركة بضاعة بمبلغ 5,000,000 دينار بالأجل للتاجر عمر وبتاريخ 3/15 سدد التاجر عمر

الدين المترتب علي بشيك

م// اثبات قيد اليومية في سجلات الشركة اذا علمت ان تم الاتفاق على احتساب خصم الكمية عند الشراء .

5- بتاريخ 2022/6/1 اشترى التاجر علي بضاعة من التاجر محمود بمبلغ 6,000,000 دينار وبخصم تجاري 5% وشروط دفع 7/4 , 10/2 , ن/30 وبتاريخ 6/9 سدد التاجر المستحق عليه نقدا .

م// تسجيل قيود اليومية في دفاتر المشتري والبائع

س3/ سجل العمليات التالية في دفتر يومية محلات شمس التجارية

1- 2023/3/1 بدأت المحلات اعمالها بالموجودات والمطلوبات التالية

صندوق	10,000,000	داننون	4,000,000	سيارات	5,000,000	اثاث	6,000,000	قروض	2,000,000
مصرف	8,000,000	اوراق دفع	500,000	راس المال	؟؟؟؟				

2- 3/3 اقترضت المحلات من مصرف الرشيد مبلغ 2,000,000 دينار بمعدل فائدة سنوي 9% اودعتها في حسابها الجاري لدى المصرف .

3- 3/5 باعت الشركة اثاث بمبلغ 3,000,000 دينار بربح مقداره 25% من سعر البيع نقدا .

4- 3/7 قامت الشركة باستبدال احدى السيارات بأخرى جديدة قيمتها السوقية 4,000,000 دينار وحققت الشركة ربح من عملية الاستبدال مقداره 1,000,000 دينار وقد قدرت قيمة السيارة القديمة بمبلغ 3,000,000 دينار وقد تم الاتفاق على دفع الفرق نقدا .

5- 3/9 اشترت المحلات الاثاث بمبلغ 1500,000 دينار بشيك كما دفعت الشركة مصاريف نقل الاثاث والبالغة 250,000 دينار نقدا .

6- 3/15 باعت المحلات الاثاث المتبقي بخسارة مقدارها 15% من القيمة الدفترية نقدا .

7- 11/3 سددت المحلات القرض مع الفوائد بشيك .

س4// توفرت لديك البيانات التالية .

1- 2020/1/10 باعت شركة دجلة بضاعة الى التاجر علي بمبلغ 8,000,000 دينار وبخصم تجاري 15% بالأجل .

2- 1/11 حرر التاجر علي الكمبيالات التالية سدادا للدين المترتب عليه :

أ- كمبيالة بمبلغ 4,000,000 دينار تستحق الدفع بتاريخ 6/1 .

ب- كمبيالة بالمبلغ المتبقي تستحق الدفع بتاريخ 8/1 .

3- 1/15 اشترت الشركة بضاعة من التاجر وليد بمبلغ 10,000,000 دينار وبخصم تجاري 20% حيث ظهرت له كمبيالة التاجر علي الاولى ودفعت الباقي بشيك .

4- 4/10 ارسلت الشركة كمبيالة علي الثانية الى المصرف لتحصيل قيمتها .

5- 6/1 رفض التاجر علي سداد قيمة الكمبيالة الاولى حيث بلغت مصاريف الاحتجاج 300,000 دينار .

6- 6/5 اتفقت الشركة مع التاجر علي علي تجديد الكمبيالة علي النحو التالي :

أ- ان يدفع مبلغ 1000,000 دينار نقدا .

ب- احتساب فوائد تأخيريه مقدارها 200,000 دينار .

ت- ان ينظم كمبيالة بالمبلغ المتبقي تستحق الدفع بتاريخ 11/1 .

7-1/8 استلمت الشركة صافي قيمة الكمبيالة الثانية بعد ان استقطع المصرف مصاريف تحصيل 5% من قيمة الكمبيالة

المطلوب/ تسجيل قيود اليومية في دفاتر شركة دجلة والتاجر علي

س5// تمنح شركة وارث التجارية خصم كمية الى عملائها وفق النسب التالية :

لا شيء على 1000,000 دينار الاولى

3% على 1,000,000 دينار الثانية

5% على 2,500,000 دينار الثالثة

7% ما زاد عن 2,500,000 دينار

1- بتاريخ 2022/6/1 اشترى التاجر سعد بضاعة من التاجر حيدر بمبلغ 3,000,000 دينار بخصم تجاري 5% وبشروط دفع 5/4 , 10/3 , ن/30 .

2- 6/2 باعت الشركة بضاعة بمبلغ 7,500,000 دينار بالأجل الى التاجر سعد .

3- 6/4 اشترى التاجر حيدر بضاعة من شركة وارث بمبلغ 4,500,000 دينار بالأجل .

4- 6/7 سدد التاجر سعد الدين المترتب بذمته الى التاجر حيدر نقدا .

5- 6/9 تبين انا هناك بضاعة تالفة بمبلغ 500,000 دينار قام التاجر سعد بإرجاعها الى الشركة .

6- 6/12 سدد التاجر حيدر الدين المترتب بذمته بشيك الى الشركة .

7- 6/15 سدد التاجر سعد الرصيد المتبقي بذمته نقدا .

م// تسجيل قيود اليومية اللازمة في دفاتر كل من شركة وارث والتاجر سعد علي فرض :

1- تم الاتفاق مع التاجر سعد علي احتساب خصم الكمية عند التسديد .

2- تم الاتفاق مع التاجر حيدر علي احتساب خصم الكمية عند كل عملية شراء مع تمنياتنا بالنجاح

مدير الماده
م. قاسم محمد دهب

م. د. شروق خلف
م. د. شروق خلف



University of Basrah
College of Administration and Economics
Banking and Finance Department
-Final Exam - (*See*) attempt
2023 - 2024



Course name: English frist stag Evining study , Date: 13/ 8/ 2024, Total Mark: 50 Time: 2 H

Name _____no: _____

Answer just four questions

Q1/ Determine if the statement is true or false:

Are the sentences true (✓) or false () ? Correct the false sentences.

- 1- Ann-alias is from Italy.
- 2- Peter and Helen have two sons.
- 3- Ann-alias in a small school. .
- 4- Her school is in the center .
- 5- The student in her class are all from Europa . .
- 6- .Rosie is Ann-alias is teacher .
- 7- The national gallery is expensive.
- 8- The underground is difficult to use .
- 9- . The coffee is good.

Q2 / Choose the correct answer from the options.

- 1- He works at Basra airport (Journalist – pilot)
- 2- What time is it (11:50) . (twelve past ten – twelve to ten)
- 3- She always (play) tennis . (play . plays)
- 4- The baby (cry) . (cry , cries)
- 5- We always (go) to the club (go , goes)
- 6- Mai is a teacher , she (**teach**) English (teach , teaches)
- 7- ----- his the first name ? (Bill) (what , why)
- 8- I pronoun is ----- in possessive adjectives . (your , my)

Q3/ Write in the blank the symbol to classify the underlined word .

1- The <u>boy</u> plays football .	A	Pronoun
2- Mohammed <u>went</u> to school.	B	Noun
3- The sky is <u>beautiful</u> .	C	Conjunction verb
4- He drives the car <u>fast</u> .	D	Adjective
5- The teacher helps students <u>at</u> school.	E	Adverb
6- <u>He</u> is a good boy .	F	Preposition

Q4 : Choose the type of word underlined (12.5 mark)


- 1- Took off. (verb – adjective)
- 2- Dutch student has enjoyed (pronoun – conj.)
- 3- The reason (article – preposition)
- 4- Baggage handler (noun – pronoun)
- 5- He apologized . (verb – noun)
- 6- He banged (verb – noun)
- 7- horrified. (adverb – adjective)
- 8- Relatives . (noun – pronoun)

Q5 / you can agree or disagree the following .


- 1- Babur is an ambitious and successful personality and is the youngest school **head teacher in the world** . (agree – disagree)
- 2- The verb in the simple present tense takes the auxiliary verb (do or does) with not . (agree – disagree)
- 3- It can come often and sometimes at the beginning of a sentence . (agree – disagree)
- 4- We can use Question Tools for the question sentence and it can be at the end of the sentence. (agree – disagree)
- 5- Add (es) to verbs that end with letters (ch , sh , s , z , o) (agree – disagree)

Q6) Write in one of the following topics :

- a- Finance
- b- Banks


Assist Prof. Dr. Radhi Obaid
Course instructor

Good Luck


Dr. Shorouk Khalaf
Head, Department of Finance

جامعة البصرة

كلية الإدارة والاقتصاد

قسم العلوم المالية والمصرفية

الدراسات الصباحية/المسائية

المرحلة : الأولى

المادة : الحاسبات ل ٢

التاريخ : ٦ - ٧ - ٢٠٢٤

الوقت : ساعتين



أسئلة الامتحان النهائي للعام الدراسي ٢٠٢٣/٢٠٢٤ الدور (١) الثاني

ملاحظة: الأجابة على خمسة أسئلة فقط - لكل سؤال (١٠) درجة

س ١ / أجب ب صح أو خطأ / (لكل فقرة (٢) درجة)

١. لربط حاسبات الشبكة مع بعضها البعض او مع الشبكات الأخرى يمكن أستخدام جهاز(الموزع)
٢. يتم تصنيف الشبكات بناء على الحجم والمساحة والتوزيع الجغرافي
٣. في الأنظمة متعددة البرامج يكون دور نظام التشغيل هنا تحميل برنامج واحد وتنفيذه وبعد اكتمال المهمة، يتم تحميل برنامج آخر وتنفيذه
٤. من تصنيفات أنظمة التشغيل، أنظمة متعددة المهام
٥. تمثل بطاقات الشبكة أحدى مكونات شبكة الحاسوب الثانوية

س ٢ / أملئ الفراغات التالية بما يناسبها من العبارات / (لكل فقرة (٢) درجة)

١. في هذا النوع من الأنظمة يبدأ المعالج بتنفيذ أحد البرامج، وإذا توقف البرنامج لأي سبب كان يقوم المعالج بالبدا بتنفيذ برنامج آخر.
٢. هي الأجهزة ذات المواصفات العادية (الشخصية) والتي تطلب الخدمات والبيانات من أجهزة الخادم.
٣. هي برامج يتم تنزيلها على أجهزة العملاء تقوم بالاتصال بالصفحات الإلكترونية المخزنة على أجهزة الخوادم.
٤. تتمثل للإنترنت بمجموعة البرامج والتطبيقات المحملة على أجهزة الحاسوب.
٥. هي الوسائل التي يتم بواسطتها تبادل البيانات بين الحاسوب الرئيسي والحواسيب الفرعية.

س ٣/ أختار الأجوبة الصحيحة من بين الأقواس / (لكل فقرة (٢) درجة)


١. هو الجهاز المثبت داخل أو خارج الحاسوب اتهيئة الأتصال بشبكة الأنترنت.
(المودم - الراوتر - الخادم - جميع ما ذكر)
٢. هو الذي يقوم بعملية تقسيم الملفات والمعلومات الى حزم عبر الإنترنت وإرسالها إلى حاسب آخر
(الموجه - بروتوكول الإنترنت - الموزع - جميع ما ذكر)
٣. نعني باستخدام قاعدة بيانات واحدة تحتوي على جميع المعلومات يستخدمها جميع المتصلين بالشبكة
(المشاركة في البيانات - سهولة تحديث وتطوير البرامج - محطات العمل - جميع ما ذكر)
٤. من أبرز طرق الاتصال بالإنترنت
(الموزع - الأقمار الصناعية - بروتوكول الإنترنت - جميع ما ذكر)
٥. يمكن تصنيف شبكات الحاسوب بأبسط أشكالها بناء على.
(علاقة الأنظمة ببعضها - نوع وسيلة الأتصال - طرق التوصيل والهيكلية - جميع ما ذكر)

س ٤/ وضح المفاهيم والمصطلحات التالية: (لكل فقرة (٢.٥) درجة)

- ١- الحاسوب
- ٢- الخادم
- ٣- بروتوكول الأنترنت
- ٤- المودم


س ٥/ وضح طرق الأتصال بالأنترنت.

س ٦/ تقدم شبكات الحاسوب مجموعة كبيرة ومتنوعة من الأمكانات والفوائد، وضحا بالتفصيل.


أ.د. منظر فاضل سعد

رئيس القسم

مع تمنياتي لكم بالنجاح


أ.م. حيدر صلاح هاشم / م.م. أسراء خير علي عبد

مدرس المادة

المادة : الاقتصاد
المرحلة : الاولى
الوقت :
التاريخ : 2024/13



جامعة البصرة
كلية الإدارة والاقتصاد
قسم العلوم المالية والمصرفية
الدراسات الصباحية المسائية

اسئلة الامتحان / الكورس الثاني الدور الثاني / للعام الدراسي 2024/2023

ملاحظة: الإجابة عن أربعة أسئلة فقط، توزع الدرجات بالتساوي لكل سؤال (12.5) وتكون الاجابة بالقلم الجاف الأسود والازرق حصراً

س1/ اختر الاجابة الصحيحة لكل مما يأتي :

- 1- ان β في دالة الاستهلاك تمثل
أ- الاستهلاك المستقل عن الدخل ب- APC ج- MPC د- APS
- 2- ان APS هو عبارة عن
أ- $\Delta S/\Delta Y$ ب- التغير في الاستهلاك الناتج عن التغير في الدخل
ج- الادخار على الدخل د- الاستهلاك على الدخل
- 3- من الاثار الاقتصادية للسياسة الضريبية هي :
أ- اثار ثقافية ب- علاقة الدخل القومي بالنتاج المحلي
ج- اثرها على الاستهلاك والانتاج د- لاشي مما سبق
- 4- تفترض النظرية الكلاسيكية ان الاقتصاد في حالة
أ- تعطيل تام ب- ادنى من التوظيف الكامل ج- توظيف كامل د- لاشيء مما سبق.
- 5- السياسة المالية هي مجموعة من الاساليب والقواعد والاجراءات التي تتخذها الحكومة لادارة نشاطها
أ- النقدي ب- السياسي ج- المالي د- الاقتصادي
- 6- ان حساب الدخل بطريقة الانفاق القومي تساوي
أ- مجموع عوائد عوامل الانتاج ب- طرح الانتاج من المستلزمات
ج- الاستهلاك الخاص والعام + الانفاق الاستثماري الخاص والعام + المخزون السلعي + صافي التجارة الخارجية د- لاشيء مما سبق.
- 7- اذا كان الدخل القومي النقدي لسنة معينة هو 3500 مليون دينار والرقم القياسي للاسعار هو 125% . جد الدخل القومي الحقيقي .
أ- 2000 مليون دينار ب- 2500 ملون دينار ج- 2800 مليون دينار د- 3250 مليون دينار
- 8- ودائع البنوك التجارية لدى البنك المركزي هي بمثابة؟
أ- احتياطات البنك المركزي ب- العملة في التداول ج- احتياطات نقدية للبنوك لدى البنك المركزي د- لاشيء مما سبق.
- 9- ان أي توسع في الأساس النقدي سيقود الى ؟

1- زيادة الاحتياطات لدى البنك المركزي
 ب- تخفيض عملية خلق الودائع ج- التوسع في منح القروض د- لأشياء مما سبق.

10- تفسر دالة الاستهلاك علاقة بين سحوبات مختلفة من الدخل ومستويات انفاق استهلاكي كما بالشكل

أ- $C=F(I)$ ب- $C=F(N)$ ج- $C=F(Y)$ د- $C=F(G)$

س2/ توفرت لديك البيانات التالية
 $G = 250$; $I = 150$; $X = 1500$
 $M = 1750$

$$C = 300 + 0.70Y$$

المطلوب : حساب الدخل التوازني .

س3/ اجب عن الاتي من خلال الإجابات القصيرة

- 1- اذا كان الميل الحدي للاستهلاك 0.80 فإن الميل الحدي للادخار يساوي؟
- 2- ماذا يحصل عندما يرتفع الدخل القومي الحقيقي بمعدل اكبر من معدل زيادة السكان خلال مدة زمنية معينة؟
- 3- ماذا تعني α (الفا) في دالة الادخار
- 4- عرف الناتج القومي
- 5- ماهو اثر الضرائب على الادخار والاستثمار


س4/ اذا توفرت لديك البيانات التالية


الدخل المتاح	الانفاق الاستهلاكي	APC	APS	MPC	MPS
900	850				
950	880				
1000	910				
1050	940				
1100	970				


المطلوب: إيجاد APC, MPC, APS, MPS

س5

- 1- ما المقصود بالاستهلاك مبيناً دالة الاستهلاك مع الرسم ؟
- 2- ماهو الميل الحدي للاستهلاك ؟
- 3- بين العلاقة بين الناتج المحلي والدخل القومي


د. أ.د. منتظر فاضل سعد
رئيس القسم


م.د. ازهار عبد اللطيف
مدرس المادة


أ.م.د. احمد جبر سالم
مدرس المادة

المادة : مبادئ المحاسبة
المرحلة : الاولى
الوقت : ساعتان
التاريخ : 2024 / 7 / 6



جامعة البصرة
كلية الإدارة والاقتصاد
قسم العلوم المالية والمصرفية
الدراسات الصباحية والمسائية

اسئلة الاء تحانات النهائية للكورس الثاني / الدور (إثبار) للعام الدراسي 2023 - 2024

ملاحظة: الاجابة عن اربعة اسئلة فقط ((توزع الدرجات بالتساوي)) .

س 1 // وضع بالتفصيل مفهوم الخصم وماهي اهم أنواعه اشرحها بالتفصيل ؟

س 2 // سجل العميات التالية في دفتر يومية محلات الكوثر التجارية

1- 5/1/2022 بدأت المحلات اعمالها بالموجودات والمطلوبات التالية
صندوق 20,000,000 دانون 8,000,000 سيارات 12,000,000 اثاث 8,000,000 قروض 5,000,000
مصرف 15,000,000 راس المال ؟؟؟؟

- 2- 5/4 باعت الشركة نصف اثاث بخسارة مقداره 25% من سعر البيع نقدا .
- 3- 5/7 قامت الشركة باستبدال احدى السيارات بأخرى جديدة قيمتها السوقية 10,000,000 دينار وحققت الشركة خسارة من عملية الاستبدال مقداره 3,000,000 دينار وقد دفعت الشركة مبلغ 5,000,000 نقدا مع عملية الاستبدال .
- 4- 5/8 اشترت المحلات اثاث بمبلغ 4,000,000 دينار بشيك كما دفعت الشركة مصاريف نقل الاثاث والبالغة 250,000 دينار نقدا .
- 5- 5/20 باعت المحلات الاثاث بربح مقدارها 20% من القيمة الدفترية بشيك .

س 3 // توفرت لديك البيانات التالية :

- 1- 2022/1/1 باع التاجر فهد بضاعة الى التاجر حسن بمبلغ 10,000,000 دينار وبخصم تجاري 8% وشروط الدفع 3/0
- 2- 2022/1/2 قام التاجر حسن بدفع مصاريف نقل البضاعة والبالغة 200,000 دينار نقدا .
- 3- 2022/1/4 تبين ان هناك بضاعة غير مطابقة للمواصفات بمقدار 3,000,000 دينار تم الاتفاق على ارجاعها .
- 4- 2022/1/9 اشترى التاجر حسن بضاعة من شركة النور التجارية بمقدار 25,000,000 دينار بالأجل حيث تمنح الشركة خصم كمية على مشترياتها وفق النسب التالية :
ما زاد عن 500,000 - 1,000,000 3%
1,000,000 - 2,500,000 5%
2,500,000 - 4,500,000 6%
ما زاد عن 4,500,000 8%

- 5- 1/12 باعت الشركة بضاعة الى التاجر فهد بمبلغ 18,000,000 دينار بالأجل ودفعت الشركة مصاريف تحميل البضاعة والبالغة 300,000 دينار نقدا .
 - 6- 1/14 سدد التاجر حسن المستحق عليه بشيك الى التاجر فهد .
 - 7- 1/15 سدد التاجر فهد المستحق عليه نقدا الى شركة النور .
 - 8- 1/20 قام التاجر حسن بفحص البضاعة المشترة من شركة النور واتضح ان هناك بضاعة بقيمة 3,000,000 دينار تالفة تم الاتفاق على ائزيل قيمتها من حسابها لدى الشركة .
 - 9- 1/25 سدد التاجر حسن المتبقي بذمته نقدا الى شركة النور .
- م/ تسجيل قيود اليومية اللازمة في دفاتر كل من شركة النور ،التاجر فهد اذا علمت ان :
- 1- تم الاتفاق مع التاجر حسن على احتساب خصم الكمية عند التسديد
 - 2- تم الاتفاق مع التاجر فهد على احتساب خصم الكمية عند كل عملية شراء .

س ٤ / توفرت لديك البيانات التالية :

- ١- 2015/2/1: اشترى التاجر كريم بضاعة من شركة الاستقلال بمبلغ 8,000,000 دينار بالأجل .
 - ٢- 2/5 سدد التاجر كريم الدين المترتب بذمته بكمبيالة تستحق الدفع بتاريخ 2015/6/5 .
 - ٣- 4/5 خصمت شركة الاستقلال الكمبيالة المسحوبة على التاجر كريم لدى المصرف مقابل عموله تحصيل 100,000 دينار
 - ٤- 6/5 لم يتمكن التاجر كريم من سداد قيمة الكمبيالة الى المصرف مما جعل المصرف يرفع دعوة قضائية وبلغت مصاريف الاحتجاج 50,000 دينار .
 - ٥- 6/10 اتفق التاجر كريم على تجديد قيمة الكمبيالة على النحو التالي :
 - أ- ان يدفع مبلغ 2,000,000 دينار بشيك .
 - ب- ان تحتسب فوائد تأخيريه قدرها 100,000 دينار .
 - ج- ان ينظم كمبياليتين لأمر الشركة الاولى بمبلغ 3,000,000 دينار تستحق الدفع بتاريخ 2015/9/1 والثانية تستحق الدفع بتاريخ 2015/11/1 بالمبلغ المتبقي .
 - ٦- 6/12 قامت الشركة بإيداع الشيك في حسابها الجاري لدى المصرف .
- م // ١ - تسجيل قيود اليومية اللازمة في دفاتر شركة الاستقلال التجارية والتاجر كريم .

س ٥ // اجب عن الاتي

- ١- بتاريخ 2020/8/1 قررت شركة السماء التجارية استبدال احدى الآلات بأخرى جديدة قيمتها السوقية 8,000,000 دينار علما ان الشركة قدرت قيمة الآلة القديمة بمبلغ 5,000,000 دينار اذا علمت ان الآلة تم شراؤها بتاريخ 2020/1/1 بمبلغ 5,500,000 دينار ودفعت الشركة رسوم تسجيل بمبلغ 500,000 دينار نقدا وتم الاتفاق بين الطرفين على ان يدفع الفرق بينهما نقدا
المطلوب // تسجيل قيود اليومية في دفاتر الشركة.
- ٢- ٢٠٢١/٤/٥ استلم التاجر عمر كمبيالة من شركة النور بمبلغ 8,000,000 دينار تستحق الدفع بتاريخ 2021/9/1 حيث قام التاجر بتاريخ 2021/7/1 بخصم الكمبيالة لدى مصرف الرافدين مقابل عمولة تحصيل 30,000 دينار ومعدل خصم 3% واستلم الصافي نقدا .
المطلوب // تسجيل قيود اليومية في سجل التاجر عمر .
- ٣- اشترى التاجر اسعد بضاعة من التاجر ماجد بمبلغ 4,000,000 دينار بشيك وقام التاجر ماجد بدفع مصاريف نقل البضاعة والبالغة 500,000 دينار نقدا .
المطلوب // تسجيل قيود اليومية في دفاتر التاجر اسعد والتاجر ماجد.
- ٤- شركة تمتلك اجهزه قيمتها الدفترية ٥٠٠٠٠٠٠٠٠ دينار قامت الشركة ببيع نصف الاجهزة ببيع مقداره ١٥% من القيمة الدفترية نقدا
المطلوب // تسجيل قيود اليومية في دفاتر الشركة

٥- من اهم معايير التمييز بين المصروفات الايرادية والرأسمالية هو العمر الانتاجي والذي نقصد به

- أ- اذا ادى المصروف الى اطالة العمر الانتاجي للموجود يعتبر رأسماليا اما اذا حافظ عمره يعتبر ايرادي
- ب اذا ادى المصروف الى اطالة العمر الانتاجي للموجود يعتبر ايرادي اما اذا حافظ عمره يعتبر رأسماليا
- ج- اذا استفاد المشروع من المصروف لفترة ماله واحده يعتبر ايرادي اما اذا استفاد اكثر من فترة يعتبر رأسماليا

مع تمنياتنا بالنجاح

رئيس القسم
أ.د. منتظر فاضل سعد

مدرس المادة
م. قاسم محمد دهش



University of Basrah
College of Administration and Economics
Department of Financial & Banking Sciences
Final Exam - Second Semester
(Second Attempt)
2023 - 2024



Course Name: English -First Stage	Date: 17/7/2024	Total Mark:50	Time: 2 hours
-----------------------------------	-----------------	---------------	---------------

Notes : - Answer Five (5) questions only .
- (10 Marks) for each question.

Q1) Choose the correct word between brackets .(10M.)

- 1- (a- What b- Where c- Why) is his first name ? Ali.
- 2- @ = (a- of b- at c- it)
- 3- 32 = (a- twenty three b- thirty five c- thirty two)
- 4- \$19.99= (a- nineteen dollars ninety nine cents b- nineteen and ninety nine c- ninety nine dollars nine)
- 5- write , writes / teach (a- teaches b- teaches c- teach/z)
- 6- I went to Delhi (a- through b- on c-by) bus.
- 7- There (a-is b – are c – has) just one bathroom .
- 8- Do we have (a- a b - any c- some) homework tonight?
- 9- There is a (a-bed b– fridge c– sofa) in the living room.
- 10- Why don't you eat tomatoes ? I don't like (a- them b– it c– her).

Q2) Match a verb in line (A) with a place in line (B)

1	Cook	A	Shop
2	Sleep	B	Sports Ground
3	Have a shower	C	Bedroom
4	Relax	D	Office
5	Eat	E	Dining room
6	Work	F	Living room
7	Read	G	Garden
8	Grow vegetables	H	Kitchen
9	Buy	I	Bathroom
10	Play	J	Library

Q3) Use the word in the box to complete the sentences.

(a)likes (b) expensive (c) travels (d) about (e) architect (f) six
--

- 1- This restaurant is very
- 2- My family really my friend Ali.
- 3- What time is it now ? It's five past .
- 4- My father a lot in his job .
- 5- He's an He designs buildings.

Q4) Choose the symbol of suitable part of speech for each underlined word .

(a) Noun (b) verb (c) pronoun (d) adverb (e) adjective (f) preposition (g) conjunction


Reading(1) is one of the most important(2) skills that we(3) can learn. It allows us to access information, expand our knowledge, and (4) develop our imagination. Reading can also help (5) us to improve our communication skills, critical thinking skills, and empathy.


Q5) Determine whether the statement is true or false, then correct the false .


- 1- Rick Wilson lives with his family in a house in West England.
- 2- Annalisa's school is in the centre.
- 3- The National Gallery is expensive .
- 4- Babur gets up at 8 a.m.
- 5- Babur Ali speaks English.

Q6) Write in one of the following topics :

- a- Finance
- b- Banks


Assist .Lect.Siham Nasir
Course instructor


Assist Prof. Dr. Radhi Obaid
Course instructor


Prof. Dr. Muntadhar S. Albattat
Head Department



ملاحظة الاجابة عن اربعة اسئلة فقط لكل سؤال (12.5) درجة

من 1 من المعلومات التالية تحقق فيما اذا كانت هناك علاقة بين درجات طلبة في مادة المحاسبة (X) ودرجات مادة الاحصاء (Y) ، علما ان عدد الطلبة (8 طلاب) .

$$\sum X = 580 ; \sum Y = 556 ; \sum X^2 = 43950 ; \sum XY = 41660 ; \sum Y^2 = 39692$$

من 2/ اوجد الوسط الحسابي الموزون للبيانات التالية التي تمثل انتاج معمل الادوية في سامراء من الادوية بالطن وعدد المكانن العاملة وعدد ساعات العمل ؟

فئات الإنتاج(طن)	2-4	4-6	6-8	8-10	10-12
عدد المكانن العاملة	4	5	6	3	2
عدد ساعات العمل	6	5	6	4	4

من 3/ من بيانات جدول التوزيع التكراري التي تمثل عدد ساعات عمل عدد من المكانن في مصنع لانتاج السلع الكهربائية:

ساعات العمل	8-10	10-12	12-14	14-16	16-18
عدد المكانن	2	6	7	4	9

احسب Me اذا علمت ان البيانات من النوع المستمر.

من 4/ املأ الفراغات التالية :

- 1- ان قيمة الوسيط للبيانات التالية (4 , 5 , 2 , 3 , 4 , 1 , 2 , 4) هو.....
- 2- في حالة معامل الارتباط يساوي واحد (r = 0) فان ذلك دليل على ان المتغيرات
- 3- ان قيمة معامل الارتباط تقع بين
- 4- مجموع انحرافات القيم عن وسطها الحسابي يساوي
- 5- ان قيمة المنوال للبيانات التالية (70 , 60 , 50 , 80 , 90 , 65 , 99) هو
- 6- ان صيغة قانون الوسيط في حالة البيانات المبوبة عندما يكون (المتغير مستمر) هي

من 5/ في احدى الدراسات المالية تم تسجيل النتائج التالية

$$\sum_{i=1}^{10} XY = 40070 ; \sum_{i=1}^{10} X^2 = 40055 ; \sum_{i=1}^{10} Y^2 = 40464 ; \sum_{i=1}^{10} X = 613 ; \sum_{i=1}^{10} Y = 620$$

المطلوب // قدر معادلة نموذج الانحدار البسيط مع التفسير .

مع تمنياتنا للجميع بالنجاح

أ.د. منتظر فاضل سعد
رئيس القسم

م.د. علي عبد الزهرة حسين
مدرس المادة

م. احمد هشام محمد
مدرس المادة

المرحلة : الاولى
المادة : ادارة الاعمال
الزمن : ساعتين
التاريخ 2024 / 7 / 8



جامعة البصرة
كلية الادارة والاقتصاد
قسم العلوم المالية والمصرفية
الدراسات الصباحية والمسائية

الامتحان النهائي الكورس الثاني / الدور (المبار)

ملاحظة/ الاحابة عن خمسة اسئلة فقط (توزع الدرجات بالتساوي)

س1: اجب عما يأتي:

أ. ما لمقصود بخطة ادارة الازمات وماهي خطوات التعامل مع الازمة، وضح ذلك بالتفصيل؟

ب. ماذا يقصد بالقيادة التحويلية وماهي خصائصها؟

س2: اجب عما يأتي:

أ : عدد فقط ما يلي.

1. مؤشرات ضعف النظام الرقابي

2. خصائص الأهداف

ب: يمتلك القادة مجموعة من الاساليب القيادية استعرض هذه الاساليب بالتفصيل؟

س3: اجب عن الفرعيين التاليين:

أ. بصفتك احد المتخصصين في ادارة الاعمال قدم ورقة تستعرض فيها النظريات التقليدية

في القيادة من خلال شرحها بالتفصيل؟

ب. استخدم المقارنة لتوضيح اهم الفروقات بين القائد والمدير؟

س4 : وضح الاتي :

أ: ماذا نقصد بالنظام الرقابي ؟ وما الهدف الأساسي له؟ وماهي مكوناته ؟

ب: ماذا نقصد بمصطلح الإدارة بالأهداف؟ وما هي مراحلها؟ وضح ذلك معززا اجابتك بالرسم ؟

س5: اجب عما يأتي :

أ . عدد فقط.

1. خصائص النظام الرقابي الفعال. 2. مداخل فاعلية المنظمة.

ب: وضح من خلال الرسم فقط مستويات الاهداف والتخطيط في المنظمة؟

س6 : اجب عما يأتي :

أ: عدد فقط اهم المجالات التي توضع لها اهداف وفق ما اشار اليها الباحث Drucker؟

ب: وضح من خلال الرسم فقط :

1. مقارنة بين التصميم العضوي والميكانيكي

2. مراحل العملية التخطيطية


مع خالص تمنياتنا لكم بالنجاح

مدرسات المادة:



د. منتظر فاضل سعد


رئيس القسم



م. هبة ياسين عبد الله



م. دعاء شهيد حبيب



م. ميادة كاظم نتوش

المادة: المحاسبة المتوسط
الدراسات الصباحية والمسائية
التاريخ: 2024 / 7 / 14
الوقت: ساعتان



أسئلة الامتحان النهائي
للفصل الدراسي الثاني 2023-2024
(الدرر الثاني)



جامعة البصرة
كلية الادارة والاقتصاد
قسم العلوم المالية
والمصرفية

ملاحظة: 1- الإجابة عن أربعة أسئلة فقط وتوزع الدرجة بالتساوي.

س1// هناك مجموعة من المفاهيم مرتبطة بالاستثمارات في الأسهم والسندات، اذكرها بالتفصيل.

س2// في 2019/1/2 اشترت شركة البصرة ماكينة لانتاج المرطبات بمبلغ 800,000 دينار دفعت بصك.
في 2019/1/5 دفعت الشركة مبلغ 200,000 دينار نقدا أجور نقل الماكينة الى المصنع.
في 2019/1/7 دفعت الشركة مبلغ 500,000 دينار نقدا مقابل تركيب وتشغيل الماكينة
المطلوب:

- 1- تسجيل القيود اليومية الازمة للعمليات اعلاه.
- 2- حساب الاندثار للماكينة بطريقة القسط المتناقص (مجموع سنوات العمر الإنتاجي)، اذا علمت ان العمر الإنتاجي للماكينة قدر بأربع سنوات وقيمة الأنقاص 500,000 دينار.
- 3- اثبات قيد بيع الماكينة اذا علمت ان الشركة باعت الماكينة بعد انتهاء العمر الإنتاجي لها بمبلغ 600,000 دينار.

س3// في 2015/4/1 اشترت شركة الفيحاء مجموعة من السندات قيمتها الاسمية 200,000 دينار بمبلغ 180,000 دينار نقدا، وبفائدة 10% سنويا تدفع نقدا في 4/1 من كل سنة وتستحق في 2020/4/1.
المطلوب:

- 1- تسجيل القيود اليومية الازمة لعملية الشراء.
- 2- تسجيل قيود استلام الفائدة لغاية تاريخ الاستحقاق.
- 3- اثبات عملية إعادة السندات الى الجهة المصدرة بعد انتهاء اجل السندات.

س4// بتاريخ 2020/12/31 أظهرت سجلات شركة البصرة البيانات التالية:
رصيد حساب المدينون 500,000 دينار، المبيعات الآجلة 10,000 دينار، مردودات المبيعات 2000 دينار،
الديون التي تم شطبها والتي تخص العام 2019 بلغت 2000 دينار، رصيد حساب مخصص الديون المشكوك
فيها 20,000 دينار.
المطلوب// تصوير حساب المدينون وحساب المخصص في اخر الفترة، علما ان الشركة قررت عمل مخصص
لمدينون للعام 2020 بمقدار 5% من رصيد المدينون اخر المدة. (10 درجات)

س15 في ما يلي ميزان المراجعة لشركة فستقة التجارية 2020/12/31.


اسم الحساب	الأرصدة الدائنة	الرصدة المدينة
دائنون	4,800,000	
بضاعة اول المدة		2,000,000
مشتريات		8,000,000
مدينون		2,300,000
مبيعات	10,000,000	
م. نقل المشتريات		250,000
مردودات المشتريات	150,000	
رواتب		500,000
م. الكهرباء		700,000
خصم مسموح به		20,000
خصم مكتسب	30,000	
مردودات المبيعات		230,000
سيارات		5,000,000
مباني		5,900,000
اثاث		1,200,000
المصرف		5,300,000
الصندوق		2,000,000
ايراد أوراق مالية	50,000	
رأس المال	18,370,000	
المجموع	33,400,000	33,400,000

المطلوب:
قيود الإقفال الخاصة بحساب الأرباح والخسائر وتصوير حساب الأرباح والخسائر عن السنة المنتهية في 2020/12/31 اذا علمت ان حساب المتاجرة اظهر مجمل ربح مقداره 1,180,000 دينار.

مع تمنياتنا لكم بالنجاح



أ.د. منتظر فاضل سعد
رئيس القسم



م.م سلام صدام مهر
مدرس المادة

المرحلة: الثانية
المسادة: تجارة الكترونية
التاريخ: 7 / 7 / 2024
الوقت: ساعتان



جامعة البصرة
كلية الادارة والاقتصاد
قسم العلوم المالية والمصرفية
الدراسات الصباحية والمسائية

أسئلة الامتحان النهائي للكورس الثاني (الدور الثاني) العام الدراسي 2023 - 2024

اسم الطالب ----- الشعبة -----

ملاحظة / الإجابة بقلم الجاف وتكون على أربعة أسئلة فقط وتوزع الدرجات بالتساوي

السؤال الأول : ما المقصود بالمصطلحات الآتية:

- 1- التجارة الالكترونية
- 2- المستندات الرسمية
- 3- العقد الالكتروني
- 4- ضابط الاسناد الاساسي
- 5- الوسيط الالكتروني
- 6- التوقيع الالكتروني .

السؤال الثاني : هناك مجموعة من علاقات التبادل في التجارة الالكترونية تجري بين ثلاث اطراف رئيسية هي المؤسسات والمستهلك والحكومة .

عدد هذه العلاقات وشرح كل علاقة منها مع ذكر الأمثلة لكل علاقة .


السؤال الثالث : قارن بين ما يأتي

- 1- الكتالوج الورقي والكتالوج الالكتروني .
- 2- البائع الامامي والبائع الخلفي
- 3- السوق الالكتروني والسوق التقليدي


السؤال الرابع : اجب عن النقاط التالية :

- 1- خصائص العقد الالكتروني
- 2- ما هي وظائف الوسيط
- 3- ما هي مقومات التجارة الالكترونية

السؤال الخامس : تحدث في مقالة لا تقل عن صفحتين عن إيجابيات وسلبيات التجارة الالكترونية تحدث عنها بالتفصيل واذكر الطرق التي يمكن من خلالها معالجة السلبيات .


د. أ. د. منتظر فاضل سعد

رئيس القسم

تمنيانا لكم بالنجاح والتوفيق

م. م. ندى مهدي

مدرس المادة


أ. م. د. راضي مهدي نغيض

مدرس المادة

المرحلة: الثانية
المادة: الإدارة المالية
التاريخ: 17/1/2024
الوقت: ساعتان



جامعة البصرة
كلية الإدارة والاقتصاد
قسم العلوم المالية والمصرفية
الدراسات الصباحية والمسائية
أسئلة امتحانات النهائية الكورس الثاني الدور (الثاني) للعام الدراسي 2023-2024

(توزع الدرجات بالتساوي)

ملاحظة: الإجابة عن أربعة أسئلة فقط وبالقلم الجاف.

س1 / اشرح بالتفصيل مكونات نموذج تقييم الجدارة الائتمانية 5C.

س 2/ أجب عن الآتي: -

أ- وضح وبشكل مفصل من خلال جدول تكاليف الاحتفاظ بالمخزون.
ب- وضح من خلال شكل بياني العلاقة بين كل من (CC,TF,TC)

س3/ شركة الإطارات احتياجاتها السنوية من الإطارات 36000 إطار وتكاليف التخزين 5% من سعر الإطار البالغ 100 دينار، وتقرر الشركة الاحتفاظ بمخزون احتياطي 600 إطار، وان كلفة اعداد الطلبية الواحدة هي 100 دينار.


المطلوب: احسب الآتي: -

- 1- الحجم الاقتصادي الأمثل
- 2- معدل المخزون
- 3- عدد الطلبيات
- 4- إجمالي تكاليف المخزون


س4/ اجب بصح او خطأ مصححاً الخطأ أن وجد: -

- 1- يكون معدل الفائدة الاسمية أكبر من معدل الفائدة الفعلي لقرض برصيد معوض وذو فائدة مخصومة.
- 2- يكون معدل الفائدة الاسمية أكبر من معدل الفائدة الفعلي لقرض مقسط وذو فائدة تدفع في نهاية المدة.
- 3- يكون معدل الفائدة الاسمية أكبر من معدل الفائدة الفعلي لقرض مقسط وذو فائدة مخصومة.
- 4- يكون معدل الفائدة الاسمية أكبر من معدل الفائدة الفعلي لقرض برصيد معوض وذو فائدة تدفع في نهاية المدة.

س5 / تدرس شركة تعديل شروط الائتمان بالبيع الاجل بتعديل فترة الائتمان من صافي 30 إلى صافي 60 يوم وتتوقع الشركة زيادة المبيعات بنسبة 20% عن المبيعات السابقة بحيث تصبح المبيعات الجديدة 2160000 دينار كما بلغت نسبة عائد المساهمة 60%، نسبة الديون المعدومة 5%، معدل العائد المطلوب 20%، هل تتفق مع الشركة بتعديل شروط الائتمان علماً أن متوسط فترة التحصيل تزداد من 30 يوم إلى 50 يوم.


رئيس القسم
أ.د. منتظر فاضل سعد

مع تمنياتي لكم بالتوفيق


مدرس المادة
أ.م. د. محمد جاسم محمد

المادة: التسويق المصرفي

المرحلة: الثانية

التاريخ: ٨ / ٧ / ٢٠٢٤

الوقت: ساعتان



وزارة التعليم العالي والبحث العلمي

جامعة البصرة

كلية الادارة والاقتصاد

قسم العلوم المالية والمصرفية

الدراسات الصباحية والمسائية

اسئلة الامتحان النهائي الدور (الثاني) للعام ٢٠٢٣/٢٠٢٤
الكورس الثاني

ملاحظة: الاجابة عن اربع اسئلة فقط

س١ / ما المقصود بسعر الخدمة المصرفية؟ وماهي اسباب لجوء الادارة الى تعديل سعر الخدمات المصرفية؟

س٢ / اجب بكلمة صح او خطأ مع تصحيح العبارات الخاطئة ان وجدت؟

١. ليس هناك تأثير للتصميم الداخلي والديكور الخاص بالمصرف على العملاء؟
٢. يتأثر القرار التسويقي بمجموعة القوانين والتشريعات المنظمة للقرار التسويقي؟
٣. ان العلاقة بين تغير الدخل وتغير نمط الانفاق علاقة عكسية؟
٤. يعتبر الجمهور العام احد مكونات البيئة الكلية للمصرف؟
٥. تسعى مصارف على امتلاك فروع في شكل متناسب مع تقديم خدمة التي تحقق احتياجات زبائن باختلاف مناطق الجغرافية.

س٣ / ناقش العبارات التالية بشكل مختصر؟

١. ان ارتفاع اليرادات الكلية من بيع الخدمات المصرفية لا يعني زيادة الارباح؟
٢. هناك بعض الزبائن مستمرين بتعاملهم مع المصرف على الرغم من تخفيض اسعار الخدمات المشابهة في المصارف المنافسة؟
٣. هناك تلازم بين عمليتي انتاج وتوزيع الخدمات المصرفية؟
٤. ان علاقة المصرف مع بيئته هي علاقة تبادلية باتجاهين؟
٥. يعتبر سوق المنافسة الكاملة حالة فرضية ونادرة في سوق الخدمة المصرفية؟

س٤ / اختر الاجابة الصحيحة للعبارات التالية؟

١. التكاليف التي ترتبط مباشرة بحجم العمليات المصرفية فانها تتغير طبقا لحجم التعامل بالخدمة والجهود المبذولة لتحقيقها
أ- التكاليف المتغيرة
ب- التكاليف الثابتة
ج- كل شي مما ذكر .
٢. نقصد بالجمهور المالي :
أ. مؤسسات المال والائتمان
ب. بيوت الاستثمار
ج. كلاهما صحيح
٣. تتصف الخدمة المصرفية في مرحلة النمو بأنها :
أ. أساسية
ب. مطورة
ج. مميزة
٤. بالإمكان توزيع الخدمات المصرفية من خلال :
أ. فروع المصرف
ب. الصراف الالي
ج. كلاهما معا
٥. يعتبر احد عناصر المزيج التسويقي ويعتمد على التغذية العكسية الواردة للمصرف لأغراض التطوير ؟
أ. التوزيع
ب. الترويج
ج. التسعير

س٥ / في ضوء دراستك للتسويق المصرفي اجب عن الاسئلة التالية بشكل مفصل :

- أ- ماهو التعريف الشامل للتسويق المصرفي؟
- ب- ماهي ابرز خصائص التسويق المصرفي؟
- ت- ماهي ابرز مزايا التسويق المصرفي الالكتروني للمصارف؟

د. ا.د. منتظر فاضل سعد
رئيس القسم

مع تمنياتنا لكم بالتوفيق والنجاح

٢٠٢٤ ز.س.ع. ل.ع.ب.م.أ.ع.

م.م. مرتضى عبدالحسين عبدالكريم
مدرس المادة

المادة : الأساليب الكمية

المرحلة :الثانية

التاريخ : 2024/7/14

الوقت : ساعتين



وزارة التعليم العالي والبحث العلمي

جامعة البصرة

كلية الادارة والاقتصاد

قسم العلوم المالية والمصرفية

الدراسة الصباحية والمسائية

اسئلة امتحان النهائي الكورس الثاني (الدور الثاني لعام 2024/2023)

ملاحظة: الاجابة عن اربعة اسئلة فقط وتوزع الدرجات بالتساوي

س1 // اختر رمز الاجابة الصحيحة لكل من النقاط الاتية:

1. يتم اعتماد الطريقة المبسطة في حل مسائل البرمجية الخطية في حال:

أ- احتواء النموذج على متغيرين فقط. ب- احتواء النموذج على متغيرين أو أكثر.

ج- احتواء النموذج على متغير واحد فقط. د- لا شيء مما ذكر.

2. من مميزات الشكل العام لنموذج البرمجة الخطية هي:

أ- دالة الهدف من نوع Min. Z. ب- قيود النموذج من نوع المساواة.

ج- قيود النموذج من نوع أكبر أو يساوي. د- كل ما ذكر صحيح.

3. المتغير الداخل في الطريقة المبسطة (Simplex Method) هو المتغير:

أ- الذي يقابل اعلى رقم سالب في R.H.S. ب- الذي يقابل أكبر أو اعلى رقم بإشارة سالب في صف Z.

ج- الناتج من خلال قسمة R.H.S على المتغير الداخل واختيار اقل حاصل قسمة د- لا شيء مما ذكر

4. دالة الهدف الاتية خاصة بشركة السماء (Min.Z = 6X₁ + 10X₂ + 9X₃) الى ماذا يشير الرقم 10 :

أ- ربح الوحدة الواحدة من السلعة الاولى. ب- كلفة انتاج الوحدة الواحدة من السلعة الاولى.

ج- ربح الوحدة الواحدة من السلعة الثانية. د- لا شيء مما ذكر.

5. إذا كان القيد من نوع أكبر أو يساوي فأن منطقتة ستكون في الرسم البياني:

أ- على يمين القيد. ب- أسفل القيد.

ج- على يسار القيد. د- لا شيء مما ذكر.

س2 // إذا توفر لديك نموذج البرمجة الخطية الاتي:

$$\text{Min. } Z = 4X_1 + 10X_2$$

s.to

$$4X_1 + 5X_2 \geq -15$$

$$|7X_1 + 3X_2| \leq 25$$

$$8X_1 + X_2 = 50$$

$$X_1, X_2 \geq 0$$

المطلوب: حول نموذج البرمجة الخطية أعلاه الى 1. الشكل الاعتيادي.

2. الشكل القياسي.

س3 // إذا توفر لديك نموذج البرمجة الخطية ادناه والخاص بشركة الخليج:

$$\text{Min. } Z = 20X_1 + 30X_2$$

s.to

$$5X_1 + 10X_2 \geq 90$$

$$4X_1 + 3X_2 \geq 48$$

$$X_1, X_2 \geq 0$$

المطلوب: بيان الحجم الأمثل الذي يمكن ان تنتجه شركة الخليج من كلا السلعتين والذي يحقق اقل تكلفة باستخدام الطريقة البيانية (Graphical Method)?

س4 // شركة النرجس تقوم بإنتاج سلعتين حيث تتطلب كل سلعة ثلاثة مواد اولية لإنتاجها والجدول الاتي يبين كمية المواد الاولية المتاحة وربح الوحدة الواحدة لكل سلعة:

المواد المتاحة	الثانية	الأولى	السلعة
لا تقل عن 50 وحدة	4	3	المادة الأولى
لا تقل عن 40 وحدة	2	2	الأولى
لا تقل عن 30 وحدة	2	3	الثانية
	\$10	\$9	الثالثة
			ربح الوحدة الواحدة

المطلوب: 1. صياغة النموذج الرياضي للشركة?

2. ما الشكل المكتوب به النموذج?

س5 // جد الحل الأمثل لنموذج البرمجة الخطية الاتي باستخدام الطريقة المبسطة (Simplex Method):

$$\text{Max. } Z = 5X_1 + 10X_2$$


s.to


$$3X_1 + 6X_2 \leq 12$$

$$2X_1 + 8X_2 \leq 24$$

$$X_1, X_2 \geq 0$$

مع تمنياتي لكم بالنجاح


أ.د. منتظر فاضل سعد
رئيس القسم


م.م. عبدالله محمد راضي
مدرس المادة

المرحلة : الثانية
المادة : المؤسسات المالية والمصرفية
التاريخ : ٩ / ١ / 2024
الوقت : ساعتين



جامعة البصرة
كلية الادارة والاقتصاد
قسم العلوم المالية والمصرفية
الدراسات الصباحية و المسائية

اسئلة الامتحان النهائي / الفصل الثاني - الدور (الثاني)

الاسم الرقم الشعبة
ملاحظة: الاجابة عن خمسة اسئلة فقط وتوزع الدرجة بالتساوي.
س1: وضح ماذا يقصد بالمؤسسات المالية التي لاتقوم بدور الوساطة المالية أولاً ذاكراً بعد ذلك اهم هذه المؤسسات ثانياً؟

س2: توفرت لديك البيانات التالية

المصرف	حجم الودائع
A	13
B	15
C	25

علما ان نسبة الاحتياطي القانوني ح ق = 8% وسقف الائتمان في عموم البلاد هو 30 مليون دينار

احسب

- 1- مقدار الاحتياطي القانوني
- 2- المبلغ المتاح للإقراض من قبل البنوك
- 3- حصة كل مصرف من الائتمان
- 4- مقدار فائض السيولة لدى كل مصرف

س3: نفرض ان التاجر علي امن على بضاعة ضد الحريق لدى مؤمنين بالمبالغ 36000 ، 38000 ، 40000 دينار وخلال مدة سريان العقود لثلاث حدث حريق أدى الى خسارة قيمتها 33000 دينار وقد قدرت قيمة البضاعة عند وقوع الحادث 60000 دينار

المطلوب

- 1- ما هو نصيب كل مؤمن من التعويض
- 2- ما مقدار المبلغ الذي يستلمه المؤمن من المؤمنين الثلاثة
- 3- ماذا تسمى العملية التأمينية في المثال
- 4- ما نوع الخطر المؤمن ضده في المثال
- 5- ما نوع التأمين في المثال

س4: ضع علامة صح او خطأ امام العبارات التالية مع تصحيح الخطأ ان وجد

- 1- تتعامل المؤسسات المالية في ادوات الائتمان المتشابهة (قصيرة-متوسطة- طويلة الاجل) في سوق النقد والمال.
- 2- يقصد باعادة التأمين العملية التي لاتتحمل بموجبها احدى شركات التأمين كل او جزء من الخطر الذي سبق ان تحمته شركة اخرى.
- 3- تلزم شركة اعادة التأمين على دفع عوض مالي الى المؤمن له عند تحقق الخطر المثبت في العقد.
- 4- من ادوار المؤسسات المالية تفادي احتمالات عرقلة الاقتصاد لتوافق الرغبات بين اصحاب الفائض والعجز المالي.
- 5- البنك المركزي هو مؤسسه تقوم بالنيابة عن المصارف التجارية بممارسه الرقابه والاشراف.

س5: ماهي اهم انواع المصارف التجارية ومميزاتها، وضحها بالتفصيل؟

س6: ماهي الوظائف التي تقوم بها المؤسسات المالية في الاقتصاد، وضحها بشكل مفصل.

مع تمنياتي لكم بالنجاح

د.د. منتظر فاضل سعد
رئيس القسم

م.د. سهام غالي حمود
مدرس المادة

أ.م.فايزة حسن مهابت
مدرس المادة

المرحلة: الثالثة
المادة: سياسات
التاريخ: ٢٠٢٤/٧/٤
الوقت: ساعتين



كلية الإدارة والاقتصاد
قسم العلوم المالية والمصرفية
الدراسة الصباحية والمسائية

أسئلة الامتحان النهائي الكورس الثاني (الدور الثاني)

• ملاحظة/ الاجابة عن اربعة اسئلة فقط (توزع الدرجات بالتساوي).

س١/ اجب عن مايلي :

أ- وضح اهم النتائج التي توصل اليها فريدمان مستعيناً بالاشكال البيانية.
ب- احدى الادوات المهمة التي يستخدمها البنك المركزي هي الادوات النوعية وضحها.

س٢/ وضح النظرية النقدية الكلاسيكية والكنزية مستعيناً بالمعادلات والاشكال البيانية.

س٣/ اجب عن مايلي (خمسة فقط)

١- المالية التعويضية ماذا تعني؟

٢- نظرية التردد ماذا تعني؟

٣- ما هو تأثير نسبة الاحتياطي القانوني في عملية خلق الودائع؟

٤- هل يمكن للبنك المركزي رفع هوامش البيع بالتقسيط اثناء الكساد، ولماذا؟

٥- هل يمكن استخدام الادوات الكمية ك (ادوات نوعية) وكيف؟

٦- ما المقصود بالدخل الدائم؟

٧- السياسة النقدية الانكماشية

س٤/ تعد عمليات السوق المفتوحة احدى الادوات الكمية للبنك المركزي المهمة الا انه هناك العديد من محددات استخدامها وضح تلك المحددات.

س٥/ ماذا يعني التوازن العام مستعيناً بالاشكال البيانية التوازن في الاسواق ثم بين حالة الاختلال في عرض النقد وكيفية معالجته.

د. أ.د منتظر فاضل سعد
رئيس القسم

مع دعائي لكم بالتوفيق والنجاح

أ.د نعيم صباح جراح
مدرس المادة

المادة: محاسبة التكاليف
المرحلة: الثالثة
التاريخ: 7/6/2024
الدور: الثاني



أسئلة الامتحان النهائي للفصل الثاني للعام الدراسي
2024/2023



جامعة البصرة
كلية الإدارة والاقتصاد
قسم العلوم المالية والمصرفية

ملاحظة: ١. الإجابة عن أربعة أسئلة فقط وتوزع الدرجات بالتساوي بين الأسئلة. لكل سؤال (12.5) درجة
٢. الإجابة بالقلم الجاف الأسود أو الأزرق حصراً.

السؤال الأول: اجب عما يأتي:

- (1) ما هي استخدامات تحليل التعادل؟
- (2) لماذا يتساوى صافي الربح في كل من نظرية التكاليف الحدية ونظرية الطاقة المستغلة؟
- (3) ما هي مكونات معدل تكلفة الودائع؟

السؤال الثاني: الاتي بعض البيانات الخاصة بأحد المصارف التجارية لشهر اب:

- (1) اجمالي التكاليف ١٦٨٠٠٠٠٠ دينار منها ١٢٠٠٠٠٠٠ دينار تكاليف متغيرة.
- (2) عدد الخدمات المنتجة والمباعة ٦٠٠٠ وحدة.
- (3) الفوائد والعمولات الدائنة ٢٤٠٠٠٠٠٠ دينار.

المطلوب: أولاً: استخراج نقطة التعادل بالوحدات.

- ثانياً: عدد الوحدات اللازم بيعها لتحقيق ربح يعادل ٢٠٪ من الإيرادات المتحققة خلال شهر اب.
ثالثاً: نسبة الربح الحدي (عائد المساهمة).

السؤال الثالث: فيما يلي بيانات أحد المصارف التجارية للربع الأول من عام ٢٠١٦

المطلوبات	الموجودات
٦٢٥٠٠٠٠٠	١٢٠٠٠٠٠٠
الودائع	نقدية في الصندوق
حقوق الملكية	١٨٠٠٠٠٠٠
١٠٠٠٠٠٠٠	نقدية لدى البنك المركزي
٨٠٠٠٠٠٠٠	الحسابات الجارية المدينة
٢٠٠٠٠٠٠٠	القروض والسلف
٢٣٠٠٠٠٠٠	٢٦٠٠٠٠٠٠٠
مخصص تسهيلات	الكمبيالات المخضومة
٢٢٣٠٠٠٠٠٠	٧٨٠٠٠٠٠٠٠
مجموع حقوق الملكية	صافي الموجودات
٨٤٨٠٠٠٠٠٠	١٢٥٠٠٠٠٠٠٠
مجموع المطلوبات	مجموع الموجودات
٨٤٨٠٠٠٠٠٠	٨٤٨٠٠٠٠٠٠٠

وقد توفرت المعلومات الآتية للربع الأول من عام ٢٠١٦

- مجموع الفوائد والعمولات المدينة. ٢٥٠٠٠٠٠٠
- مجموع الفوائد والعمولات الدائنة. ٣٤٠٠٠٠٠٠٠

- التكاليف الأخرى للأقسام الانتاجية

- رواتب واجور ٨٠٠٠٠٠٠
- المصاريف الإدارية والتسويقية ٥٠٠٠٠٠٠٠


المطلوب: احتساب معدل تكلفة الودائع وهامش الفائدة واعداد كشف الدخل للربع الأول من عام ٢٠١٦


السؤال الرابع: يعمل احمد موظفا دائماً لدى مصرف الإسكان في قسم الحسابات الجارية، وظهرت استمارة الحضور والانصراف للأسبوع الأول من شهر تموز ٢٠٢٢ المعلومات الآتية:
ساعات العمل الاعتيادية ٨ ساعات/ يوم، استراحة الغداء ١ ساعة/ يوم، انقطاع التيار الكهربائي ٢ ساعة/ أسبوع، الوقت الإضافي ٣ ساعات / أسبوع.
فاذا علمت ان معدل اجر الساعة الاعتيادية ٢٠٠٠٠ دينار، وان علاوة الوقت الإضافي ٥٠٪ من اجر الساعة الاعتيادية، فضلاً عن ان أجور الوقت الضائع المسموح به تعالج باعتبارها تكاليف غير مباشرة.
المطلوب: احتساب الاجر الأسبوعي لهذا الموظف، فضلاً عن تبويب تكاليف الأجور

السؤال الخامس: الاتي بيانات التكاليف لاحد المصارف التجارية للفترة المنتهية في ٢٠١٦/١٢/٣١

أولاً: الرواتب والأجور
رواتب الأقسام الفنية (٤٥٠٠٠٠٠٠) دينار، أجور عمال الصيانة (١٦٠٠٠٠٠٠) دينار منها ٥٠٪ تكاليف متغيرة، رواتب الإدارة (٢٥٠٠٠٠٠٠) دينار، رواتب التسويق (٢٠٠٠٠٠٠٠) دينار منها ٤٠٪ تكاليف متغيرة.
ثانياً: الفوائد والعمولات المدينة (٧٧٠٠٠٠٠٠) دينار.
ثالثاً: المصاريف الأخرى
قرطاسية الأقسام الفنية (٢٤٠٠٠٠٠٠) دينار منها ٢٥٪ تكاليف ثابتة، مواد الصيانة (١٠٠٠٠٠٠٠) دينار منها ٧٠٪ تكاليف متغيرة، قرطاسية الإدارة (٩٠٠٠٠٠٠٠) دينار، الكهرباء (١٢٠٠٠٠٠٠٠) دينار ٥٠٪ تخص الأقسام الفنية والمتبقي يوزع بالتساوي على بقية الأقسام، الاندثار (٥٠٠٠٠٠٠٠) دينار، تأمين على أمناء الصناديق (٣٠٠٠٠٠٠٠) دينار، دعاية وإعلان (٨٠٠٠٠٠٠٠) دينار، مصاريف قانونية (٦٠٠٠٠٠٠٠) دينار، ضرائب عقارية (٤٠٠٠٠٠٠٠) دينار.
رابعاً: الفوائد والعمولات الدائنة (٢٩٠٠٠٠٠٠٠) دينار.
المطلوب: ١. استخراج تكلفة الخدمة المباعة ٢. استخراج صافي الدخل. وفقاً لنظرية التكاليف المتغيرة

مع تمنياتنا لكم بالنجاح الباهر


رئيس القسم
د.د. منتظر فاضل سعد


مدرس المادة
ا.م. حسام احمد علي

المادة: التمويل الدولي
المرحلة: الثالثة
التاريخ: 2024/1/13
الزمن: ساعتان



جامعة البصرة
كلية الإدارة والاقتصاد
قسم العلوم المالية والمصرفية
الدراسات الصباحية والمسائية

أسئلة الامتحان النهائي/الدور الثالث
للعام الدراسي 2024/2023

ملاحظة: 1- الاجابة عن خمسة اسئلة فقط لكل سؤال عشر درجات .
2- الاجابة بقلم الجاف الاسود او الازرق حصرا".

س 1 : حدد رمز الاجابة الصحيحة للجمل الآتية :-

1. من اهداف ميزان المدفوعات توفير معلومات للجهات الحكوميه عن:-
أ. الوضع المالي العالمي للدولة
ب. سعر الصرف
ج. ليس أي من الخيارين.
2. تتسم القروض المصرفية الدولية مقارنة بالقروض الرسمية:-
أ. طويلة الاجل
ب. أكثر صعوبة وتشدد
ج. ليس أي من الخيارين.
3. طرق اصدار الاسهم الدولية:-
أ. الطرح المباشر
ب. ايصالات الايداع الامريكية
ج. كلا الخيارين.
4. لنفترض ان العراق، قد صدر نفط 60 مليون دولار ستظهر في ميزان المدفوعات بند :-
أ. دائن في حساب الجاري
ب. دائن في حساب النقد الأجنبي.
ج. كلا الخيارين.
5. من وظائف الاسواق المالية الدولية:-
أ. موازنة ميزان المدفوعات
ب. تنمية المدخرات المحلية
ج. كلا الخيارين.
6. من الاشكال الادارية للبنوك الدولية:-
أ. الفروع البنكية
ب. الشركات التابعة
ج. كلا الخيارين.
7. من انواع الاستثمار الاجنبي غير المباشر:-
أ. الباحث عن الاسواق
ب. الباحث عن الاداء
ج. ليس أي من الخيارين.
8. يزيد الاستثمار الاجنبي غير المباشر من :-
أ. سيولة السوق المالية
ب. تلوث البيئة
ج. ليس أي من الخيارين.
9. تقسم السندات الدولية الى:-
أ. سندات أوربية
ب. سندات أجنبية
ج. كلا الخيارين.
10. من ايجابيات اسواق السندات الدولية:-
أ. تعدد عملات الاصدار.
ب. عدم التعرض لمخاطر الصرف.
ج. كلا الخيارين.

س 2: حدد الجمل الصحيحة او الخاطئة بكتابة كلمة صح او خطأ وصحح الخطأ ان وجد:-

1. من انواع الاسهم الدولية اسهم اليورو واسهم اليانكي.
2. ميزان المدفوعات متوازن حسابيا" بسبب استخدام القيد المزدوج في تسجيل العمليات.
3. تمكن اهمية التمويل الدولي بالنسبة للبلدان المانحة في تحسين صورتها دوليا.
4. من سلبيات الاستثمار الاجنبي غير المباشر عدم التوافق مع الاستراتيجية الوطنية للتنمية.

5. من سلبيات سوق السندات الدولية ارتباطه جوهريا بما يسود سوق العملات الدولية من مظاهر الاستقرار أو عدم الاستقرار.

6. أسهم اليانكي تصدر من قبل شركات أجنبية وتتداول في الاسواق الاوربية.

7. يمكن أن تؤدي الاستثمارات الأجنبية المباشرة في البلدان المضيفة إلى رفع معدلات وكفاءة التشغيل.

8. من خصائص سوق الاسهم هيمنة الدولار على تعاملاته.

9. من مصادر اليورو دولار الودائع الدولارية لبلدان العالم.

10. يرتفع سعر صرف العملة الوطنية اذا انخفضت اسعار الفائدة المحلية.

س3: يندرج التمويل الدولي ضمن البند المالي للعلاقات الاقتصادية الدولية.

أ. اشرح أهم مصادر التمويل الدولية.

ب. أهمية التمويل الدولي بالنسبة للدول المتلقية.

س4: يعد سعر الصرف الأداة الرئيسية ذات التأثير المباشر على الع قة بين الأسعار المحلية والأسعار الخارجية:

أ. وضح أنواع اسعار الصرف.

ب. أشرح العوامل المؤثرة في اسعار الصرف للعملات الوطنية.

س5: اعطي توضيحا" للمفاهيم الآتية. (أختر اربع فقط)

1. الاستثمار الاجنبي المباشر 2. الاستثمار الاجنبي الباحث عن الكفاءة في الاداء


3. السندات الأجنبية 4. أسهم اليانكي

5. سوق النقد الدولية 6. الاختلال في ميزان المدفوعات


س6: يعتبر عصر العولمة عصر الازمات المالية. ماذا يقصد بالازمات المالية الدولية وأشرح أهم

النظريات التي تفسرها.


مع الطيب امنيانا لكم بالنجاح و التوفيق



أ.د. منتظر فاضل البطاط
رئيس القسم



أ.م. د. عقيل عبد محمد
مدرس المادة



م.م. سارة عباس علي
مدرسة المادة



ملاحظة : الإجابة عن اربعة اسئلة فقط و توزع الدرجات بالتساوي على الاسئلة لكل سؤال (12.5) درجة

السؤال الاول: اجب بكلمة صح او خطأ للعبارة الآتية:

1. بافتراض ان الكميات المعروضة من مصانع شركة النور و البالغ عددها 3 مصانع تساوي 420 وحدة و الكميات المطلوبة من قبل 4 شركات تساوي 420 وحدة. عندها يسمى نموذج النقل بالنموذج المتوازن؟
2. يتم اللجوء الى تصحيح حلول مشكلات النقل بموجب طريقة التنقل عبر المربعات الخالية عندما تكون مسارات الخلايا سالبة؟
3. بموجب طريقة فوجل التقديرية يتم توزيع الكميات المطلوبة وذلك في الخلية التي تقابل اكبر فرق بين اكبر كلفتين للنقل؟
4. المسار الحرج في رسم شبكات الاعمال هو ذلك المسار الذي يقابل اكبر وقت بين المسارات المتاحة؟
5. عند تصحيح الحل بموجب طريقة التوزيع المعدل يتم اخذ اقل توزيع في الجزء السالب من المسار المحدد؟

السؤال الثاني: اذا توفرت لديك المعطيات الآتية و الخاصة بأنشطة شركة بغداد المتخصصة بتجارة الحبوب الغذائية.

المطلوب // رسم شبكة الاعمال واستخراج المسارات المتاحة؟

النشاط	المسار	المدة الزمنية (ساعة)
C1	1-2	10
C2	1-3	5
C3	2-4	7
C4	2-3	2
C5	3-4	13
C6	4-5	11
C7	3-5	1

السؤال الثالث: اوجد الحل الاولي للمشكلة النقل الآتية مستخدما طريقة الركن الشمالي الغربي , ثم تأكد من امثليه الحل اعتمادا على طريقة التوزيع المعدلة.

	شركة دجلة	شركة فديك	شركة المنار	QS
المركز الاول	12	7	1	220
المركز الثاني	3	9	2	310
المركز الثالث	5	14	8	120
Qs=QD	140	210	300	650

السؤال الرابع: معتمدا طريقة فوجل التقديرية وفي ضوء المعطيات الآتية

	QS	X1	X2	X3
A1	25	11	2	6
A2	60	4	5	13
A3	30	3	7	9
Qs=QD	115	10	35	70

اجب عن الآتي //

1. بين أول خلية يتم اعتمادها في بدء عملية توزيع الكميات المعروضة على الكميات المطلوبة؟
2. بين مستوى التوازن في الجدول الثاني من عملية التوزيع؟
3. وضع مقدار الكميات المنقولة لمصدر الطلب X1 من مصدر العرض A3؟
4. بين إجمالي كلفة النقل من مصدر العرض A1 فقط؟
5. بين إجمالي الكميات المنقولة لمصدر الطلب X3؟

السؤال الخامس: احسب كلفة النقل الإجمالية من مصدر العرض D4 مستخدما طريقة أقل الكلف

	QS	B1	B2	B3	B4
D1	30	1	4	5	10
D2	35	6	2	11	7
D3	170	1	13	20	12
D4	45	14	8	13	20
QD=QS		80	40	50	110

تمنياتنا لكم بالنجاح والتوفيق



رئيس القسم
أ.د. منتظر فاضل سعد



مدرس المادة
م. حسن حيدر المبارك

التاريخ: 2024 N/A
الوقت: ساعتان
المادة: محاسبة مصرفية



أسئلة الامتحان النهائي
الكورس الثاني / الدور الثاني
الدراسات الصباحية والمسائية
2023 - 2024



جامعة البصرة
كلية الإدارة والاقتصاد
قسم العلوم المالية والمصرفية

ملاحظة : الاجابة عن اربعة اسئلة فقط وبالقلم الجاف حصرا و توزع الدرجات بالتساوي على الاسئلة لكل سؤال (12.5) درجة

السؤال الاول : اذكر بالتفصيل خصائص النظام المحاسبي للمصارف ؟

السؤال الثاني : في 2023/1/2 بدأ مصرف الشمال أعماله برأس مال قدره 15,000,000 دينار أودع نصف المبلغ

لدى البنك المركزي و 2,500,000 دينار لدى مصرف المنصور والباقي لدى مصرف بغداد وبدأ في الاعمال التالية:

- 1- تم سحب مبلغ 3,000,000 دينار من البنك المركزي وايداعه في الخزينة الرئيسية للمصرف
- 2- تم اصدار امر بتحويل مبلغ 750,000 دينار من مصرف المنصور الى البنك المركزي
- 3- تم تغذية صندوق المدفوعات الفرعي بمبلغ 1,250,000 دينار من الخزينة الرئيسية
- 4- تم دفع مبلغ 150,000 دينار قيمة ايجار المصرف ومبلغ 10,000 دينار قيمة مطبوعات من الصندوق الفرعي
- 5- تم شراء اجهزة ومعدات بمبلغ 350,000 دينار بشيك مسحوب على مصرف المنصور
- 6- تم شراء سيارات بمبلغ 500,000 دينار بشيك مسحوب على مصرف بغداد
- 7- تم شراء اثاث مكتبي بمبلغ 185,000 دينار بشيك مسحوب من مصرف المنصور
- 8- بلغت مقبوضات الصندوق الفرعي للمقبوضات كما يلي :

- 225,000 دينار حسابات جارية
- 100,000 دينار ودائع توفير
- 75,000 دينار ودائع آجلة

9- بلغت مدفوعات الصندوق الفرعي للمدفوعات كما يلي

- 85000 دينار كمبيالات مخصومة
- 120000 دينار حسابات جارية

المطلوب :

تثبيت القيود المحاسبية اللازمة ؟

وحساب ارصدة كل من البنك المركزي ومصرف المنصور ومصرف بغداد ؟

أقلب الورقة واكمل الاسئلة

السؤال الثالث : بتاريخ 2023/7/1 منح مصرف الاهلي العراقي تسهيلات ائتمانية لشركة النور التجارية على شكل حساب جاري مدين بسقف قدره 65,000 دينار بمعدل فائدة 5% وتضاف عمولة قدرها 1% في نهاية كل شهر وفيما يلي العمليات التي تمت على الحساب الجاري خلال الشهر :


- 1- في 2023/7/1 تم سحب شيك بمبلغ 15000 دينار
 - 2- في 2023/7/10 تم سحب شيك بمبلغ 25000 دينار
 - 3- في 2023/7/12 تم سحب شيك بمبلغ 15000 دينار
 - 4- في 2023/7/15 تم ايداع شيك بمبلغ 20000 دينار
 - 5- في 2023/7/20 شيك محول من حسابه بمبلغ بقيمة 30000 دينار
 - 6- في 2023/7/25 تم ايداع شيك بمبلغ 35000 دينار
- المطلوب : احتساب الفائدة والعمولة المستحقة ؟ و تثبيت القيود اللازمة ؟

السؤال الرابع : استلم البنك التجاري من شركة الفيحاء صباح يوم 2021/7/1 الشيكات التالية لتحصيلها مقاصة:


- شيك رقم 515 بمبلغ 1000 دينار مسحوب على البنك العربي.
شيك رقم 520 بمبلغ 1500 دينار مسحوب على بنك القاهرة.
شيك رقم 525 بمبلغ 2000 دينار مسحوب على بنك فلسطين.
- كما استلم بنك فلسطين من شركة الهدى الشيكات التالية لتحصيلها مقاصة:
شيك رقم 110 بمبلغ 500 دينار مسحوب على البنك العربي.
شيك رقم 90 بمبلغ 600 دينار مسحوب على البنك التجاري.
- كما استلم بنك القاهرة من شركة ام الربيعين الشيكات التالية لتحصيلها مقاصة:
شيك رقم 670 بمبلغ 1700 مسحوب على بنك فلسطين.
شيك رقم 690 بمبلغ 1300 مسحوب على البنك العربي.
- كما استلم البنك العربي من شركة الحرية الشيكات التالية لتحصيلها مقاصة:
شيك رقم 9 بمبلغ 950 مسحوب على بنك القاهرة.
شيك رقم 10 بمبلغ 450 مسحوب على بنك فلسطين.
- المطلوب: 1 / بيان الخطوات في غرفة المقاصة 2 / إعداد جدول التصفية النهائية.

السؤال الخامس : بتاريخ 2023/3/1 تم ربط وديعة لمدة ستة اشهر في مصرف الائتمان بقيمة 5000 دينار وبمعدل فائدة 10% سنوياً وكان الاتفاق مع المصرف على اعادة ربط الوديعة من جديد مع الفوائد كل ستة اشهر ايضاً

• المطلوب اثبات القيود المحاسبية اللازمة


رئيس القسم
م. أ. د. منتظر فاضل سعد

((مع تمنياتنا لكم بالنجاح))


مدرس المادة
م. احمد عبدالكريم الياسين
أ.م.د. احمد رسن علاوي

المادة : دراسات الجدوى المالية
التاريخ : 2024 / \ / \-
الوقت : ساعتان فقط



جامعة البصرة
كلية الإدارة والاقتصاد
قسم العلوم المالية والمصرفية
الامتحان النهائي الدور (/ ل و ل)



المرحلة الثالثة
الكورس الثاني
2024 - 2023

ملاحظة : الإجابة عن اربعة أسئلة فقط لكل سؤال (12.5 درجة)
السؤال الأول : وضح بمخطط مراحل دراسة الجدوى المالية ؟

السؤال الثاني : اختر الإجابة الصحيحة

- 1- اذا كان للرفع المالي الدور الإيجابي هذا يمكنها باللجوء الى الاقتراض من اجل مردودية للمشروع عندما يكون :
أ- $Re < i$ ب- $i > Re$ ج - لا شيء مما ذكر (اذكره)
- 2- اذا توفرت لديك فرصة استثمارية وكان بها $Pr = 0.32$ و $R = 75\%$ فإن $E(r)$ سيكون :-
أ- 0.024 ب- 0.30 ج - لا شيء مما ذكر (اذكره)
- 3- اذا كان معدل العائد الداخلي يقع بين معدل خصم 14% و 16% وصافي القيمة الحالية للمعدل الأدنى \$23900 وللمعدل الأعلى \$(3400) عندها ستكون IRR :
أ- 15% ب- 14.8% ج - لا شيء مما ذكر (اذكره)
- 5- اذا كان امام الشركة بديلان ينتج الأول منتج A وتكلفة انتاجه \$20 للوحدة الواحدة وينتج البديل الثاني المنتج B,C,D معاً وتكلفة انتاج كل منهم \$10 للوحدة الواحدة والربح المتوقع للبديل الثاني \$ 15 فأذا قررت الشركة انتاج المنتج A ولكي لا يترتب عليها اثر نهائي لتكلفة الفرصة البديلة سيتوجب عليها البيع بسعر :-
أ- 30 \$ للوحدة ب - 25 \$ للوحدة ج - لا شيء مما ذكر (اذكره)
- 6- اذا كانت العوائد المحتملة للحدث للمشروع الأول في حالة الكساد 0.04 وفي حالة الازدهار 0.1 هذا يعني ان معدل العائد المتوقع سيكون :
أ- 0.04 ب- 0.004 ج - لا شيء مما ذكر (اذكره)

السؤال الثالث : تحتاج شركة المشرق الى مبلغ \$ 200,000 لشراء مصنع لانتاج الاكواب الكرتونية ووجدت الشركة نفسها امام أربعة بدائل لتمويل هذا المصنع كما في الجدول التالي :

التمويل		البدائل
القروض	الأسهم	
0%	100%	A
25%	75%	B
50%	50%	C
75%	25%	D

علماً ان سعر السهم الواحد \$1.0 والفائدة على الديون 7%
المطلوب / حساب تأثير كل بديل تمويلي على نصيب السهم من الأرباح ومعدل العائد على حقوق الملكية عندما يكون معدل الربح قبل الفائدة والضريبة 2% مرة و 5% مرة أخرى اذا علمت ان معدل الضريبة 40% ؟

السؤال الرابع :

لدى شركة المشرق المقترحات الاستثمارية التالية :

رقم المشروع	قيمة الأموال المستثمرة	نسبة الإيرادات المتوقعة
1	1,000,000	17%
2	1,000,000	22%
3	1,000,000	19%
4	1,000,000	15%
5	1,000,000	10%

إذا علمت أن تكلفة رأس المال 10% والأموال المرغوب استثمارها هي \$3,000,000

المطلوب : المفاضلة بين المقترحات الاستثمارية وأي منها مقبول

السؤال الخامس :

الجدول التالي يوضح بيانات شركة المشرق لمشروعين

استثماريين ترغب في المفاضلة فيما بينهما إذا علمت

أن معدل الخصم 10%

المشروع الثاني		المشروع الأول		البيانات
السنوات	القيمة	السنوات	القيمة	
0	50,000	0	100,000	الاستثمار المبدئي
1	30,000	-	-	
2	20,000	-	-	
1	-	1	80,000	التدفقات النقدية
2	-	2	60,000	
3	70,000	3	40,000	
4	60,000	4	-	
5	50,000	5	-	


المطلوب : أي المشروعين ستختار إذا ما استخدمت :


- القيمة الحالية

- دليل الربحية

- فترة الاسترداد (الجمع التراكمي)

مع تمنياتي لك بالنجاح


ر.أ.د. منتظر فاضل البطاط
رئيس القسم


م.م. احمد سامي الديراوي
مدرس المادة

المرحلة : الرابعة
المادة : المشتقات المالية
التاريخ : 2024 / 7 / 2
الوقت : ساعتان



جامعة البصرة
كلية الادارة والاقتصاد
قسم العلوم المالية والمصرفية
الدراسات الصباحية و المسائية

أسئلة الامتحان النهائي الكورس الثاني : لدراسات
للعام الدراسي 2023-2024

الاسم الرقم الشعبة

ملاحظة : الاجابة عن أربعة اسئلة فقط، (توزع الدرجات بالتساوي (12.5) درجة لكل سؤال)

س 1: علل ما يأتي:

- 1- تعتبر المشتقات المالية أدوات خارج الميزانية.
- 2- يوجد رأي يرفض المشتقات المالية من الناحية القانونية والاقتصادية.
- 3- يكون سعر الخيار الأمريكي اعلى من سعر الخيار الاوربي.
- 4- لا يمكن ان تكون القيمة الذاتية لخيار الشراء او خيار البيع قيمة سالبة.
- 5- تعتبر العقود الآجلة عقود شخصية.
- 6- هناك فرق بين هدف المستثمر أو المضارب باستخدام السوق الفوري و بين هدفه باستخدام السوق الاجل.

س 2: أجب عن الفرعين الآتيين:

- 1- خيار شراء على أسهم شركة النور يباع بعلاوة مقدارها (10.5) دولار وسعر التنفيذ (155) دولار، وسعر سهم الشركة شركة النور السوقي (169.5) دولاراً، علماً أن تاريخ التنفيذ شهر July ... أحسب ما يلي:
أ- القيمة الذاتية لخيار الشراء
ب- القيمة الزمنية لخيار الشراء
- 2- خيار بيع على أسهم شركة القدس يباع بسعر (6) دولارات وبسعر التنفيذ (170) دولاراً، لأجل ثلاثة شهور، يتم تداول أسهم الشركة في السوق بسعر (160) دولاراً أحسب ما يلي:
أ- القيمة الذاتية لخيار البيع
ب- القيمة الزمنية لخيار البيع

س 3: اجب عن الآتي:

- 1- من المصطلحات الخاصة بعقد الخيار (تاريخ التنفيذ)، وضح المقصود به بالتفصيل.
- 2- كيف يتم تسعير الخيار؟ وضح بالتفصيل.

س٤: ماذا نعني بالعقود المستقبلية؟ وبماذا تختلف عن العقود الآجلة؟ موضحاً أهم شروط العقود المستقبلية.

س٥: اجب عن الآتي بالتفصيل:

١- عرف المشتقات المالية حسب تعريف صندوق النقد الدولي مع توضيح أهم عناصر هذا التعريف.

٢- ما هي المخاطر الرئيسية الناجمة عن التعامل بالمشتقات المالية؟


أ.ر.ج.و.ك.م.التوفيق



أ.د. منتظر فاضل سعد
رئيس القسم



م.م. اسيا علي هادي
مدرس المادة



أ.م. د. مهدي صالح حنوش
مدرس المادة



المادة: المحاسبة الإدارية
المرحلة: الرابعة
التاريخ: ٣ / ٧ / 2024
الزمن: (2) ساعة

أسئلة امتحان الكورس الثاني الدور (الربيعي)
للعام الدراسي 2024/2023

جامعة البصرة
كلية الإدارة والاقتصاد
قسم العلوم المالية والمصرفية
الدراسة الصباحية المسائية

ملاحظة: الاجابة على اربعة اسئلة فقط ، تقسم الدرجة بتساوي ، احسن الخط والاجابة والترتيب

س1/ صحح العبارات التالية:

1. افضل تعريف لمفهوم التكاليف الملائمة هو تكاليف تاريخية تختلف بين البدائل.
2. ان جميع التكاليف الثابتة هي تكاليف غارقة وهي غير ملائمة في اتخاذ القرارات قصيرة الاجل.
3. يطلق على التكاليف التي لا تتأثر بأي فعل مستقبلي بالتكاليف الملائمة .
4. تعد موازنة المبيعات بعد موازنة الانتاج.
5. يعتمد اعداد الموازنة التخطيطية لتكاليف التسويقية والادارية على الموازنة التخطيطية النقدية.

س2/

ترغب شركة الرحمن بالغاء الخط (X) الذي يحقق خسارة قدرها (8,500,000) دينار، وكان عائد المساهمة الاجمالي (64,200,000) ديناراً، علماً ان التكاليف التي لا يمكن تجنبها تشكل 25% من اجمالي التكاليف الثابتة، وكونك محاسباً ادارياً هل تنصح الشركة بالغاء الخط او الابقاء عليه، وهل يختلف قرارك في حالة وجود فرصة بديلة لاجار المكان بقيمة (10,000,000) دينار.

س3/

يبلغ سعر البيع الاعتيادي لاحد منتجات شركة الهاني الصناعية 500 دينار /وحدة، وتقدم احد زبائن الشركة بطلب لشراء 2000 وحدة بسعر خاص قدره 350 دينار /وحدة، وبصفتك المحاسب الاداري لشركة الهاني، طلب منك المساعدة في تقييم قرار قبول او رفض هذه الطلبية، وقدمت اليك المعلومات الاتية عن تكاليف انتاج هذا المنتج وكما يلي:

البيان	بيانات التكاليف
مواد مباشرة	150 دينار / وحدة
اجور مباشرة	100 دينار / وحدة
ت.ص.غ. م	80 دينار / وحدة (90% منها متغيرة)
مصاريف بيعية وادارية	70 دينار / وحدة (35% منها ثابتة)

المطلوب: على فرض توفر طاقة فائضة لقبول الطلبية وان السعر الخاص بالطلبية لن يؤثر على الاسعار السائدة في السوق، فهل على شركة الهاني قبول هذه الطلبية، مبيناً اثر ذلك على صافي ربح الشركة، واذا لم تقبل الشركة الطلبية فما هو اقل سعر لقبول هذه الطلبية.

تحتاج احدى الشركات الى (.....) وحدة في السنة القادمة من قطعة معينة ، وكانت تكلفة إنتاج هذه الوحدات كالتالي:

البيان	تكلفة الوحدة المتوقعة	اجمالي تكاليف إنتاج وحدة
مواد مباشرة	7	70,000 دينار
اجور مباشرة	3	30,000 دينار
تكاليف صناعية (60% ثابتة)دينار
تكاليف صناعية عامة موزعة	4	40,000 دينار
اجمالي تكاليف الإنتاج	19 دينار	190,000 دينار

يتوقع ان ترتفع اسعار المواد الخام في الفترة المقبلة بنسبة 20% وان ترتفع تكلفة الاجور الصناعية بنسبة 10% اما التكاليف الاخرى ستبقى على ما هي عليه. وتقدم مورد خارجي وعرض بيع هذه الكمية الى الشركة وبسعر 18 دينار للوحدة، وقد وجدت الشركة انه اذا تم قبول هذا العرض فانه يمكنها توفير مبلغ 10,000 دينار الاعباء الصناعية الثابتة و 10,000 دينار من التكاليف الصناعية العامة الموزعة بالاضافة الى امكانية تأجير الالات المستخدمة في إنتاج هذه الوحدات الى الغير بمبلغ 25,000 دينار. والمطلوب كونك محاسبا ادارياً بماذا تنصح الشركة التصنيع ام الشراء؟؟؟؟

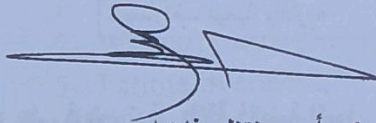
تنتج وتبيع شركة البصرة لللاثم مناخذ مكتبية، وتسوق الشركة المنتج في ثلاث منافذ تسويقية هي الشمال ، والوسط ، والجنوب، ونصيب المنافذ التسويقية من المبيعات الشهرية هي 40%، 40%، 20% على التوالي، وفيما يلي المبيعات المخططة خلال خمسة اشهر من عام 2025 .


نيسان 725 وحدة ، ايمس 1000 وحدة ، حزيران 1200 وحدة، تموز 1700 وحدة ، آب 700 وحدة.


وسعر البيع المخطط (10000) دينار للوحدة.

المطلوب : اعداد موازنة المبيعات للفصل الثاني لعام 2025.

مع التمنيات لكم بالموفقية والنجاح


س. أ.د. منتظر فاضل سعد
رئيس القسم


م.د. شروق خلف لطيف
مدرسة المادة



University of Basra
College of Administration and Economics
Finance and Banking Department

Date: / / 2024
Time: three hours

Subject: English language
Class: 4

Final Exam

Note: answer Five questions only. Each question carries 10 marks

Q1/: Read the following text and choose the *correct verb form*.

Jennifer Cory 1- *stands / is standing* in Yosemite National Park, California. She 2- *actually watches / is actually watching* her 14-year-old son, Scott, who 3- *climbs / is climbing* the face of a 2900-foot mountain. He 4- *has climbed / has been climbing* all morning, and he 5- *has nearly reached / has nearly been reaching* the top.

Q2/: put the verb in brackets into the correct *passive or active tense*.

- 1- The burglars ----- (**catch**) as they left the office.
- 2- The postbox is always ----- (**empty**) at 12 midday.
- 3- A cow ----- (**give**) milk.
- 4- Our house ----- (**built**) in the 17th century.
- 5- When I arrived, he was still ----- (**sleep**)

Q3/:A/ write **A** for an underlined auxiliary verb and **F** for a full one, for underlined words.

- 1- My car is being repaired at the moment.
- 2- We had pizza for supper last night.
- 3- Fatima overslept, so she didn't catch her train.
- 4- This self-portrait was painted by Van Gogh.
- 5- What have you done to your hair?

B/ Match the compound noun in A with the words in B

A	B
1- Road-----	a- Lady, slide
2- Land -----	b- Break, light
3- Day -----	C - Works, map
4- Sun -----	d - fall , skinning
5- Water -----	e- set, rise

Q4/: Are the following **underlined words** grammatically true (T) or false (F), and correct if it false (F)

- 1- I have just **found** this payphone.
- 2- Arsenal **are playing** well at present time.
- 3- My sister **earn** a good salary. She sells a computer software.
- 4- It **have** been a lovely day. thank you.
- 5- I was doing my homework when my friend was **calling**.

Q5/: A/ Write L for a literal meaning and I for an idiomatic one, for underlined words

- 1- The baby's crying. Can you **pick him up**. -----
- 2- After a slow start my business finally started to **take off**. -----
- 3- Ali and Samir **fell out** again last night. -----
- 4- When you are riding on the back of motorbike, you have to **hold on** tight. ---

- 5- **Put up** your hand if you know the answer. -----

B/: Choose the right option "a" or "b" (present perfect simple or continuous) to make sentences.

1- They have missed -----

a -You lots, so come home soon **b-** the train.

2- I've been swimming -----

a- twenty lengths today **b-** which is my hair is wet

3- I've been writing -----

a- My essay all morning **b-** to Sami to wish him happy birthday

4- I've found -----

a- It difficult to concertante recently **b-** my cheque book at last

5- He's had-----

a- Second thoughts about accepting the job **b-** heart attack

Q6/: Choose the right option

1- My father ----- to the office every day.

a- going b- go c- goes

2- he ----- a new coat today.

a- is wearing b- wear c- wearing

3- don't run ----- ! come here! I want to talk to you.

a- on b- off c- away

4- can't you ----- an effort with your schoolwork?

a- make b- made c- do

5- I didn't like the manager much. I don't think I ----- a good impression on him.

a- made b- make c- does

Dr.Muntather F. Saad
Head of the Department

Dr.Hussein J.Kadhum
Lecturer



ملاحظة :- الإجابة عن خمسة أسئلة فقط

س١/ الاستثمار هو توظيف الأموال بأصول متنوعة من أجل الحصول على دخل للمستثمر وعلى المستثمر ان يراعي ذلك في مجموعة من المبادئ والأسس قبل اتخاذ قرار الاستثمار وضح بالتفصيل تلك المبادئ . (١٠ درجات)

س٢/ ماذا يقصد بالمخاطر غير المنتظمة مع ذكر بالتفصيل عوامل المخاطر الغير المنتظمة . (١٠ درجات)

س٣/ يمثل العائد الهدف الرئيسي من عملية الاستثمار بالنسبة للمستثمر وضح ماذا يقصد بعائد الاستثمار ، وماهي اشكال عوائد الاستثمار وضحها بالتفصيل . (١٠ درجات)

س٤/ للاستثمار أنواع مختلفة وضح تلك الأنواع حسب اطراف الاستثمار وكذلك حسب وسائل الاستثمار . (درجات ١٠)

س٥/ حققت احدى الشركات صافي أرباح لهذا العام بلغ \$50,000 في حين كانت أرباح الأسهم الممتازة \$5000 وبلغ عدد الأسهم 100,000 سهم واربت الشركة ان توزع \$10 من أرباحها وكانت القيمة الاسمية \$ 2 للسهم . المطلوب حساب الربح الجاري للسهم . (١٠ درجات)

س٦/ القيمة الاسمية لأن الخزينة \$ 10,000 وقيمة في السوق \$7,995 وفترة الاستحقاق 2022/9/9-2022 /7/1 .
مطلوب حساب عائد الخصم على سعر الشراء لأن الخزينة . (١٠ درجات)

تمنياتي لكم بالنجاح

أ.د. منتظر فاضل سعد
رئيس القسم ومدرس المادة


م.م. غزاة جاسب عبادي
مدرس المادة




أسئلة الامتحان النهائي / الفصل الثاني - الدور (الثاني)

- الاسم الرقم الشعبة
- ملاحظة: الاجابة عن خمسة اسئلة فقط وتوزع الدرجة بالتساوي.
- س1: ضع علامة صح او خطأ امام العبارات التالية مع تصحيح الخطأ ان وجد.
- 1- من حق المساهمين في الاستفسار وعدم الاستيضاح والتعرف على ادارة العمليات المصرفية.
 - 2- يجب على المدقق الخارجي القيام باعماله بشكل مهني تحت تأثير مجلس الادارة.
 - 3- ان تحديد الرافعة المالية يهدف الى عدم وضع حد اقصى لتزايد نسبة الديون.
 - 4- على المصارف في حاله حدوث ركود اقتصادي اتباع سياسة انكماشية للحد من الركود.
 - 5- يقصد بانضباط السوق هو دعم عنصر الشفافية والافصاح من المصارف بشكل لا يكفل القدرة على فهم المخاطرة.
- س2: ما هي اهم انواع المخاطر المصرفية؟ وضحها بالتفصيل.
- س3: ماهي اهم الاسباب التي ادت الى ضرورة اسناد دور للبنك المركزي في تعزيز وتشجيع حوكمه المصارف وماهي قواعد وانظمه الحوكمه، وضح بالتفصيل.
- س4: ماهي اهم اسباب زيادة المخاطر المصرفية وماهي القوى التي تعد بمثابة عوامل محفزة لزيادة الاهتمام بادارة المخاطر المصرفية؟ وضح مع الشرح.
- س5: ماهو الفرق بين اتفاقية بازل 1،2،3، اذكرها بالتفصيل.
- س6: ماهي اهم خصائص ادارة المخاطر، وماهو اهداف ادارة المخاطر المصرفية؟

مع تمنياتي لكم بالنجاح


ك.أ.د. منتظر فاضل سعد
رئيس القسم


أ.م.فايزة حسن مسجت
مدرس المادة



المادة: التدقيق المالي
المرحلة: الرابعة
التاريخ: 2024 / 1 / 5
الوقت: 2 ساعة

أسئلة امتحان الكورس الثاني
الدور (البيبي...)
لعام الدراسي 2024/2023

جامعة البصرة
كلية الإدارة والاقتصاد
قسم العلوم المالية والمصرفية
الدراسة الصباحية والمسائية

ملاحظة: الاجابة على اربعة اسئلة فقط، توزع الدرجات بالتساوي لكل سؤال (12.5) درجة
احسن الخط والاجابة والترتيب

س1/ الاجابة بصح او خطأ مع تصحيح الخطا ان وجد:

- 1- ملخص النظام المحاسبي وقائمة بالدفاتر والسجلات المعتمدة هي من محتويات الملف الجاري .
- 2- ليس من حق المدقق طلب الايضاحات في حالة كون السجلات غير كافية لإقناعه .
- 3- من اهداف قواعد السلوك المهني تنمية روح التعاون بين المحاسبين والمدققين ورعاية مصالحهم المادية والمعنوية .
- 4- تاريخ تكوين المدقق لرايه في القوائم المالية في اي منشأة هو تاريخ الانتهاء من السنة المالية .
- 5- اعتماد المدقق على مساعدين مؤهلين لهم خبرة في الصناعة التي ينتمي لها عميل التدقيق يدعم قراره .

س2/ يعد تكرار القيود المحاسبية المتعلقة بعمليات تحصيل اليرادات من اخطاء الازدواج او التكرار فهل هذه الاخطاء تمارس بشكل متعمد ام غير متعمد ام الاثنين معا ولماذا معزز اجابتك بعملية مالية ؟

س3/ اكمل الفراغات التالية بما يناسبها لكل من للأسئلة التالية :

- 1- في حالة تسجيل قيد اكثر من مرة في دفتر اليومية او الترحيل المتكرر له فهو يعتبر من الاخطاء
- 2- على المدقق ان يقوم بالافصاح عن الاسباب الجوهرية التي جعلته يعطي رأياً سلبياً وذلك في فقرة توضيحية تقع
- 3- من ادلة الاثبات الاكثر صلاحية واقتناعاً للمدقق
- 4- قواعد السلوك المهني من حيث الجهة التي وضعتها تقسم الى و
- 5- اذا كان الخطأ لا يصل الى المادية وقامت الادارة بتعديله فأن المدقق يعطي رأياً

س4/ وضح مفهوم المصطلحات التالية لستة فقط مما يأتي :

تقرير التدقيق ، أدلة الثبات ، الرأي المقيد ، الاخطاء الفنية ، ، تقدير المخاطر ،
الملف الدائم ، الفحص التحليلي التمهيدي ، الرأي السلبي ، التدقيق الداخلي

س5 / اجب عن احد الفرعيين :


أ- ما هي اجراءات التدقيق لتحقيق فاعلية الشمول المالي ؟


ب- وضح اهمية عملية التدقيق من ناحية احتياجات الدائنين والمستثمرين ومن ناحية نظرية الوكالة ؟

س16 / بافتراض صحة شرح القيود التالية بين نوع الخطأ ورأيك الفني المحايد في الاجراءات التي يتوجب على المحاسب اجراؤها :

9700000 من د / المشتريات 9700000 الى د / الصندوق عن شراء بضاعة من محلات الايمان بصك . ----- - توصية المنفق:	85000 من ح / الصندوق 85000 الى ح / المبيعات عن بيع بضاعة نقدا بمبلغ 58000 دينار . ----- - توصية المنفق:	25000000 من د / المكانن 25000000 الى د / المصرف عن صرف مبلغ الصيانة الدورية للمكانن والمعدات ----- - توصية المنفق:
--	---	---

لكم منا كل الموقية والنجاح


د. أ. د. منتظر فاضل سعد
رئيس القسم


م. بان توفيق نجم
م. حسام احمد م. احمد عبد الكريم
مدرسي المادة